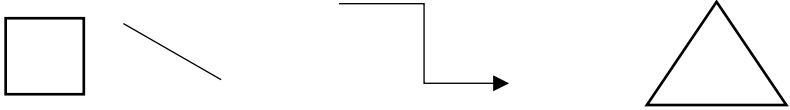


Nombre estudiante:


OA15 Identificar y dibujar líneas rectas y curvas.

Identificar y dibujar líneas rectas y curvas.

línea recta



línea curva



1. Encierra todas las líneas curvas.



2. Dibuja las líneas indicadas en cada caso, puedes utilizar regla.

a. Líneas curvas.

b. Líneas rectas.





3. Pinta en cada palabra con rojo las letras formadas solo por líneas rectas y con azul, las letras formadas solo por líneas curvas.

a. MONO

b. OSO

c. PATO

4. Remarca de color rojo las líneas rectas y de color azul las líneas curvas.



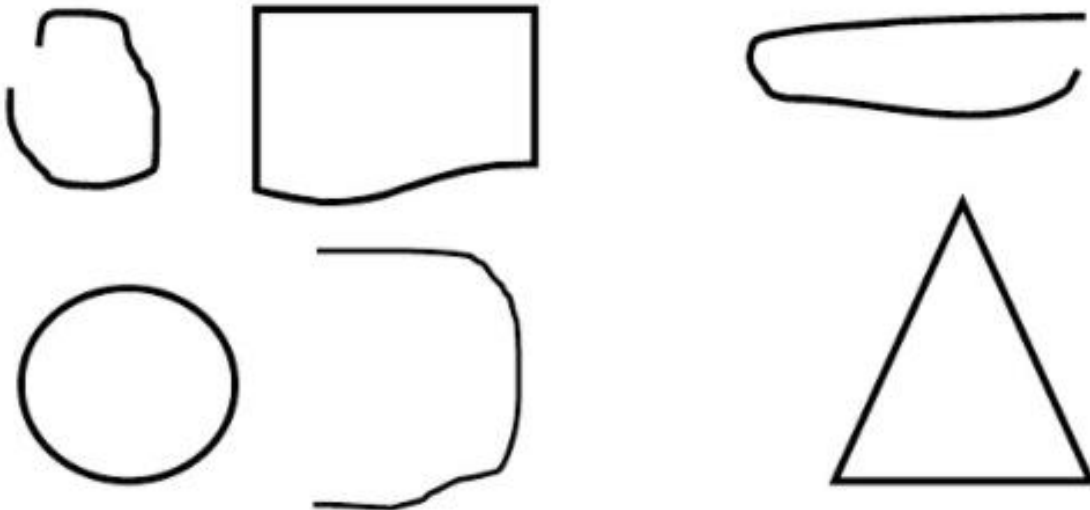
5. Une cada figura con su nombre respectivo



Línea recta

Línea curva

6. Marca con una X las líneas abiertas

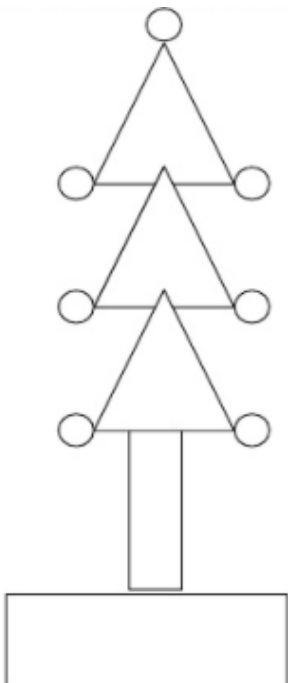


7. Dibuja las líneas en el recuadro correspondiente



	Líneas cerradas	Líneas abiertas
Solo líneas rectas		
Sólo líneas curvas		

8. En la siguiente figura pinta de verde las formas hechas con líneas curvas y azules las hechas con líneas rectas.



OA16 Usar unidades no estandarizadas de tiempo para comparar la duración de eventos cotidianos.

Existen ciertas actividades que se destacan por desarrollarse en diferentes momentos del día Mañana, tarde, noche.

Además de actividad de Mayor o menor tiempo

9. Observe las siguientes acciones y determine en cuál de ellas un niño demora más tiempo en realizarla. Marque con una X en el espacio dado.



10. Identifica y marque con una X la secuencia que corresponde al transcurso del día mañana, tarde y noche.



11. Observe las siguientes acciones y luego marque con una X en cuál utiliza un mayor tiempo en realizarla.



12. En la siguiente imagen encierre la acción que demora menos tiempo en hacer un niño.



13. Encierre la acción que demora más tiempo en realizar un niño según la siguiente imagen.




14. Encierra con un círculo la actividad en la que te demoras más tiempo



15. Encierra en un círculo la actividad en la que te demoras menos tiempo.



16. Encierra en un círculo la actividad en la que demoras más tiempo



17. Encierra en un círculo la actividad en la que demoras menos tiempo





Nombre estudiante: SOLUCIONARIO

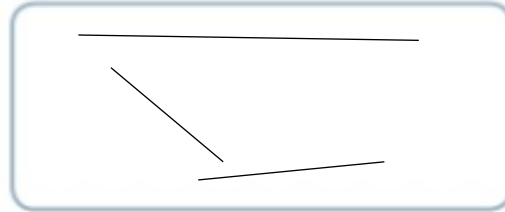
1. Encierra todas las líneas curvas.



2. Dibuja las líneas indicadas en cada caso, puedes utilizar regla.

a. Líneas curvas.

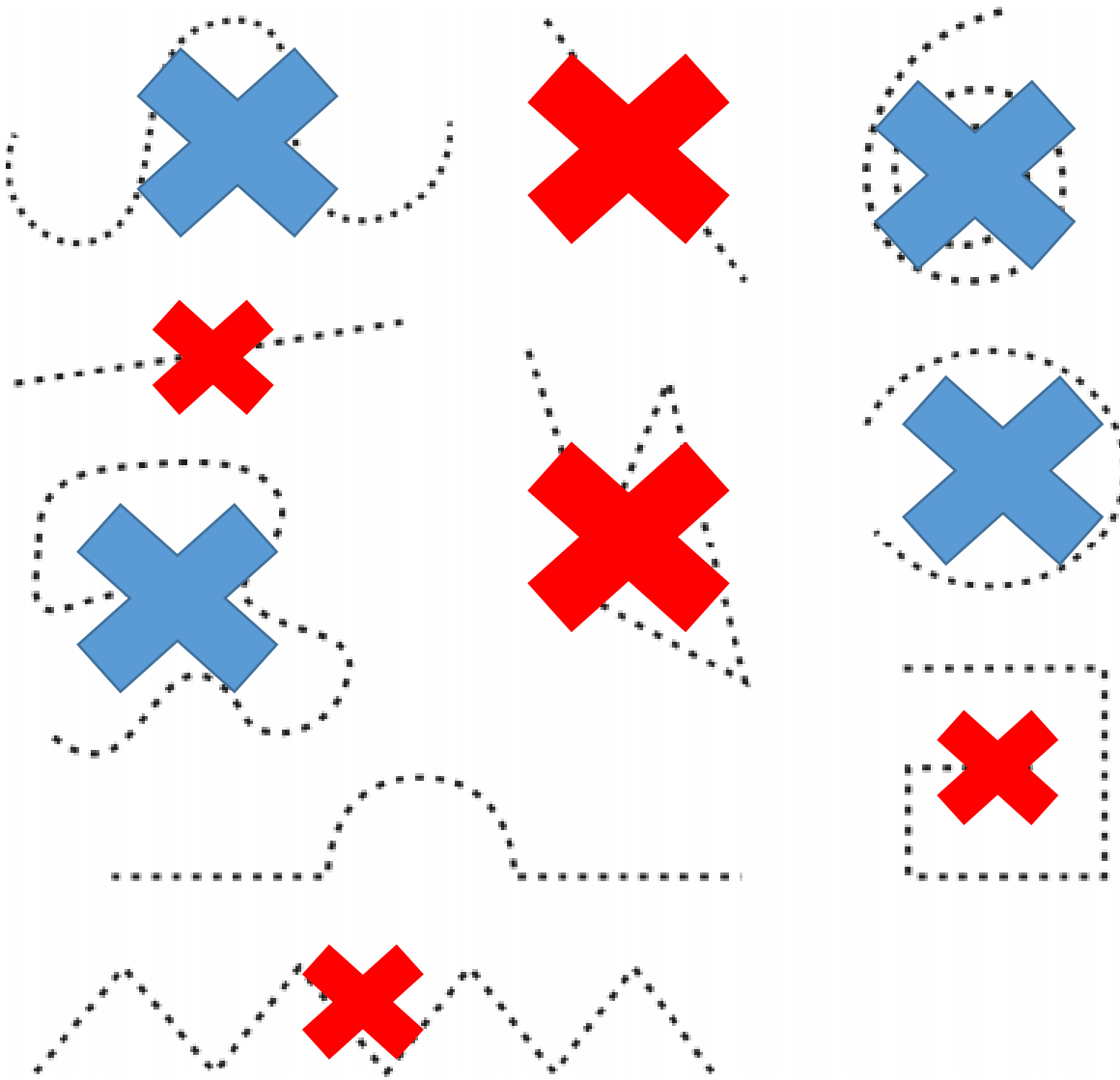
b. Líneas rectas.



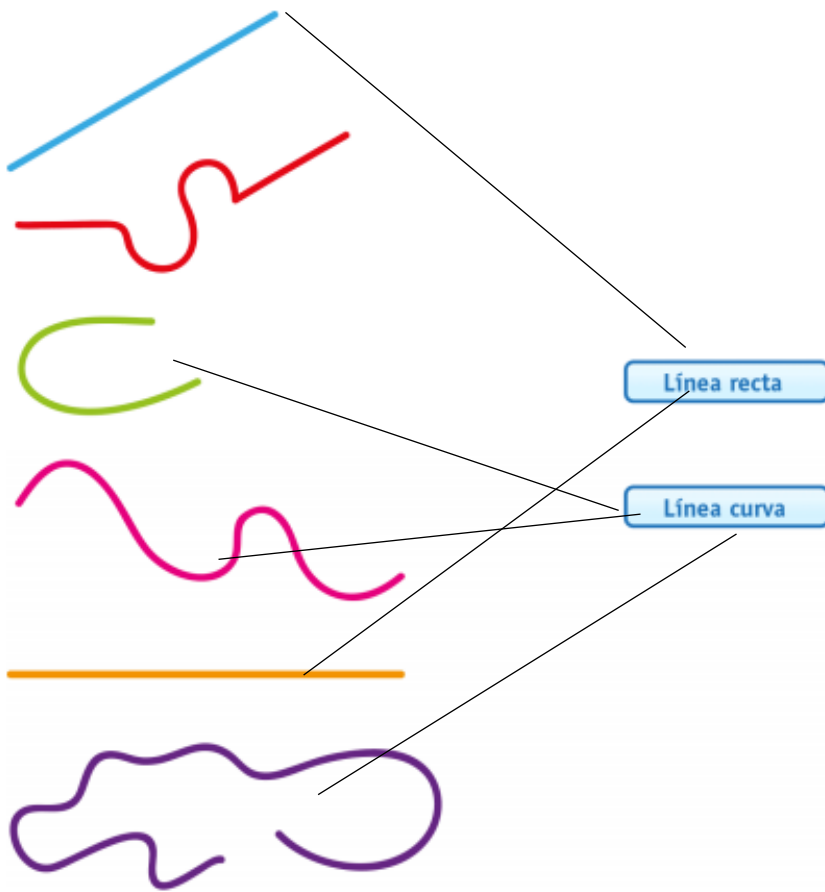
3. Pinta en cada palabra con rojo las letras formadas solo por líneas rectas y con azul, las letras formadas solo por líneas curvas.



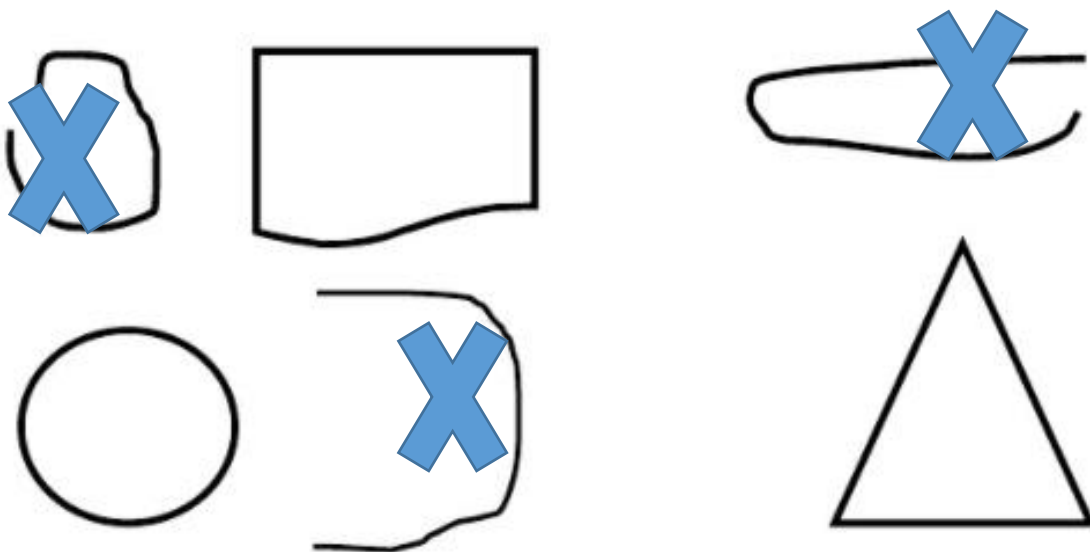
4. Remarca de color rojo las líneas rectas y de color azul las líneas curvas.



5. Une cada figura con su nombre respectivo



6. Marca con una X las líneas abiertas



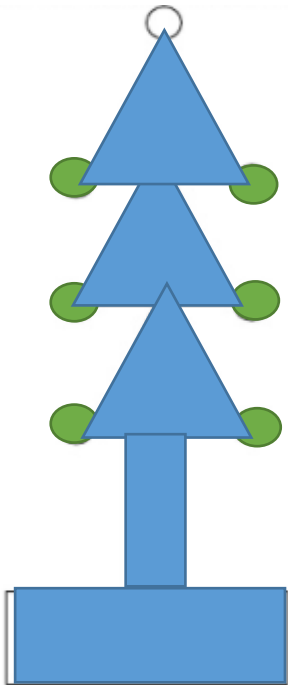
7. Dibuja las líneas en el recuadro correspondiente



	Líneas cerradas	Líneas abiertas
Solo líneas rectas		
Sólo líneas curvas		

8. En la siguiente figura pinta de verde las formas hechas con líneas curvas y azules las hechas con líneas rectas.





9. Observe las siguientes acciones y determine en cuál de ellas un niño demora más tiempo en realizarla. Marque con un en el espacio dado.



1. Identifica y marque con una X la secuencia que corresponde al transcurso del día mañana, tarde y noche.




10. Observe las siguientes acciones y luego marque con en cuál ocupa un mayor tiempo en realizarla.



11. En la siguiente imagen encierre la acción que demora menos tiempo en hacer un niño.



12. Encierre la acción que demora más tiempo en realizar un niño según la siguiente imagen.




13. Encierra con un círculo la actividad en la que te demoras más tiempo



14. Encierra en un círculo la actividad en la que te demoras menos tiempo.



15. Encierra en un círculo la actividad en la que demoras más tiempo



16. Encierra en un círculo la actividad en la que demoras menos tiempo







<b>PAUTA DE EVALUACIÓN</b>		Asignatura: matemática	
Docente: Valery Salinas	FECHA: septiembre 2021	CURSO: 1ro	

Nombre estudiante: \_\_\_\_\_

<b>OA15</b>	
Identifica líneas rectas y curvas	____ / 15
Dibuja líneas rectas y curvas	____ / 6
<b>OA16</b>	
Identifica las unidades de tiempo	____ / 3
Compara la duración de eventos	____ / 8
Entrega en la fecha indicada	____ / 1
Orden y pulcritud de la guía	____ / 1
Utiliza lápiz grafito	____ / 1
<b>Total puntos</b>	____ / 35