

Guía de estudio 6	Asignatura: Historia, Geografía y C. S.	
Docente: Carlos Mallea.	FECHA: Septiembre	CURSO: Octavo

NOMBRE ESTUDIANTE:

Unidad 3: Sociedad y territorio: la región en Chile y América.

Preguntas claves para iniciar la unidad.



Estudiante: *¿Qué estamos estudiando?*


Profesor(a): *Estamos estudiando la diversidad productiva, de intercambio y de consumo, las ventajas comparativas y la inserción de Chile en los mercados internacionales.*

Estudiante: *¿Qué es la diversidad productiva?*

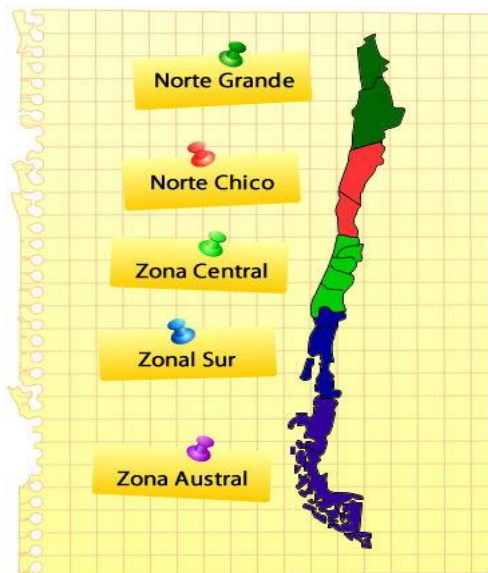
Profesor(a): *Son todas los tipos de producciones que tiene nuestro país.*

Estudiante: *¿Qué tiene que ver con nosotros?*

Profesor(a): *¡Mucho, mientras más estudies más entenderás!, por lo pronto en esta guía podrás aprender las distintas actividades productivas de las regiones de Chile, incluida la región nuestra, la metropolitana.*



Manos a la obra. Regiones naturales y productivas de Chile.



En Chile continental americano existen cinco grandes regiones naturales, cada una de las cuales se distingue por tener ciertas características de **relieve**, **clima**, **aguas superficiales**, **vegetación**, **fauna**, **recursos naturales**, **población** y **actividades económicas** que la hacen diferente a otras zonas del país.

Las regiones naturales de nuestro país ordenadas de Norte a Sur son:

1. Norte Grande.
2. Norte Chico.
3. Zona Central.
4. Zona Sur.
5. Zona Austral.

Regiones naturales de Chile en el continente de América.

Actividad I. O.A.22. Las regiones naturales y productivas de Chile. Lee el mapa, la información y realiza la actividad.

Regiones naturales de Chile.

1. Colorea las regiones naturales en el mapa en blanco, 2. Escribe el nombre las regiones naturales. 3. Escribe el límite o río, donde comienza y termina cada región natural.

Los siguientes son los límites de las regiones naturales:

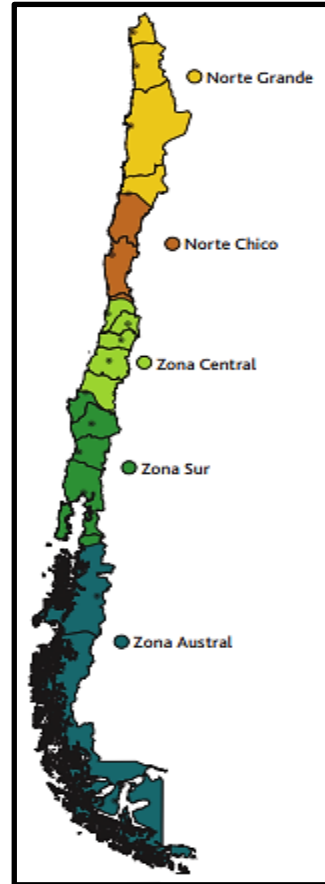
Región Norte Grande: Límite norte con Perú y termina en el Río Copiapó.

Región Norte Chico: Comienza en el Río Copiapó y termina en el Río Aconcagua.

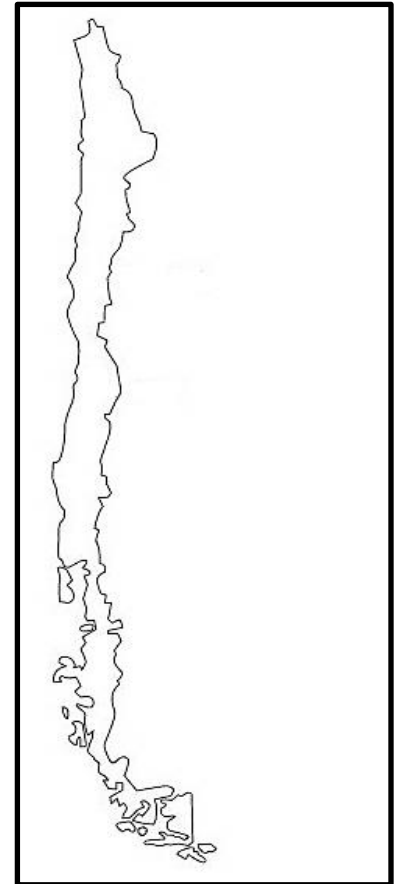
Región central: Entre el Río Aconcagua y el Río Biobío.

Región Sur: Entre el Río Biobío y el Golfo de Corcovado.

Región Austral: Entre el Golfo de Corcovado hasta el Polo Sur.



Regiones naturales de Chile en el continente de América.



Mapa para hacer la actividad.

Regiones productivas de Chile.

Los recursos naturales que posee Chile se distribuyen de manera desigual a lo largo del territorio. Esto permite dividir al país en regiones productivas, de acuerdo a las actividades económicas que predominan en el territorio. Las actividades mineras se relacionan con la extracción de minerales y metales que se distribuyen a lo largo de Chile y que se originan a partir de la actividad volcánica del país. La juventud de la cordillera de los Andes, sumada a su volcanismo activo favorece la existencia de reservas y yacimientos minerales. Las actividades silvoagropecuarias agrupan a todas aquellas labores que se relacionan con la agricultura, la ganadería y la silvicultura. La pesca se desarrolla a lo largo de toda la costa. Existe la pesca industrial, que se enfoca en la producción de bienes derivados de la pesca, como la harina de pescado, y la pesca artesanal, en la que se concentra la labor de los pescadores que habitan las caletas que se encuentran a lo largo de Chile.

Regiones pesquero-mineras (Arica y Parinacota, Tarapacá y Antofagasta)

La minería ocupa una posición fundamental, especialmente la extracción de cobre y otros minerales. Asimismo, la actividad, pesquera industrial, destinada a la producción de harina de pescado, tiene gran relevancia.



Regiones minero-agrícolas (Atacama y Coquimbo)

Concentran el mayor volumen de la producción mineral de hierro del país. La actividad agrícola se desarrolla aprovechando el relieve formado por los valles del territorio.

Regiones agroindustriales (Libertador General O'Higgins, Maule y Ñuble)

Destaca la producción agrícola y la elaboración de bienes con base en ella, como los productores lácteos, las conservas, los vinos, el arroz y el aceite.



Regiones Industriales (Valparaíso, Metropolitana y Biobío)

En ellas destacan el desarrollo y ámbitos como el textil, el calzado, la electrónica y la siderurgia.

Regiones silvoagropecuarias (Araucanía, Los Ríos y Los Lagos)

Concentran la producción ganadera y agrícola más importante del país, específicamente de bovinos, trigo, otros cereales y legumbres. Además, constituyen un espacio relevante en la producción forestal a nivel nacional.



Regiones ganaderas de potencial energético (Aysén del General Carlos Ibáñez del Campo y Magallanes y la Antártica chilena)

Se concentran en la producción ganadera, principalmente de ovinos. Posee además, un gran potencial energético, debido a la presencia de petróleo y a las posibilidades de generar energía hidroeléctrica.

De la información anterior responde las siguientes preguntas. Encierra la alternativa correcta en un círculo.

2. ¿Qué tipos de actividades y producciones podemos encontrar en la Región Metropolitana?, ¿Crees que además de las mencionadas en la guía existen otro tipos de actividades y producciones en nuestra región?

3. ¿En cuál de las regiones productivas podemos encontrar presencia de la Industria petrolera?

- a) Regiones silvoagropecuarias.
- b) Regiones industriales.
- c) Regiones pesquero-mineras.
- d) Regiones ganaderas de potencial energético.

4. ¿Son regiones que Concentran la producción ganadera y agrícola más importante del país, específicamente de bovinos, trigo, otros cereales y legumbres? ¿Además, constituyen un espacio relevante en la producción forestal a nivel nacional?

- a) Regiones silvoagropecuarias.
- b) Regiones industriales.
- c) Regiones pesquero-mineras.
- d) Regiones ganaderas de potencial energético.

5. ¿Las regiones productivas son regiones naturales o regiones culturales, justifica?

6. ¿Cuál de las siguientes afirmaciones es falsa?

- a) Las regiones productivas de Chile son muy diversas.
- b) Las regiones productivas de Chile son iguales.
- c) Las regiones industriales se concentran en Valparaíso, Metropolitana y el Biobío.
- d) En la Araucanía, Los Ríos y Los lagos concentran la mayor producción ganadera y agrícola del país.

Actividad II. O.A.22. Potencialidades y desafíos de la economía chilena. Lee la información y realiza las actividades

Potencialidades y desafíos de la economía chilena.

Si bien la división político-administrativa de Chile se efectuó para, entre otras cosas, lograr un desarrollo económico armónico de las regiones, en la actualidad estas deben enfrentar distintos problemas y desafíos que se relacionan con el desarrollo económico, la desigualdad social y los diversos estadios del desarrollo regional. De acuerdo a los recursos naturales con que cuentan, las regiones político-administrativas han ido especializando su producción económica, la que se ha ido concentrando en torno a la capital regional. La actividad minero extractiva se localiza principalmente en el norte; la agricultura, en el centro y el sur, mientras que la pesca está presente en toda la costa nacional. El crecimiento que se desprende de las actividades económicas se refleja en el **producto interno bruto (PIB)** por región.

P.I.B: medida que expresa el valor monetario de la producción de bienes y servicios de un país o región en un período de tiempo determinado (un año).

Doc. 1

Producto interno bruto (PIB) por región 2013 (millones de pesos)

Arica y Parinacota	782 842	Valparaíso	11 082 031	La Araucanía	2 848 798
Tarapacá	3 137 692	Metropolitana	61 709 518	Los Ríos	1 594 697
Antofagasta	13 028 681	O'Higgins	5 625 324	Los Lagos	3 447 709
Atacama	3 599 549	Maule	3 754 562	Aysén	653 411
Coquimbo	3 945 277	Biobío*	8 896 545	Magallanes	1 085 461

Las diferencias que surgen a partir del crecimiento de las regiones afectan directamente a la población, pues se evidencian en la distribución de la fuerza de trabajo y en el salario que reciben los trabajadores. Asimismo, una distribución desigual de los recursos y la riqueza hace que la población deba enfrentar distintos problemas según si habita zonas urbanas o rurales. La población urbana, principalmente, debe hacer frente a problemáticas que se relacionan con el ingreso, el empleo y la desigualdad, mientras que aquellos que habitan zonas rurales deben afrontar dificultades relacionadas con el acceso a servicios, educación y salud.

Doc. 2

Producto interno bruto (PIB) por región y actividad

Año 2011	Región				
	Norte	Metropolitana	Centro	Sur	Austral
Rama					
silvoagropecuaria	7,5%	12,0%	59,1%	20,7%	0,7%
pesca	15,1%	0,2%	23,0%	43,9%	17,8%
minería	77,7%	1,9%	18,9%	0,0%	1,5%
industria manufacturera	7,3%	48,2%	36,9%	6,5%	1,1%
electricidad, gas y agua	16,2%	23,6%	54,3%	5,7%	0,1%
construcción	29,6%	29,1%	31,7%	7,4%	2,2%
servicios financieros y empresariales	2,9%	84,5%	9,2%	3,0%	0,3%
transporte y comunicaciones	14,6%	45,2%	30,5%	8,5%	1,2%
comercio, restaurantes y hoteles	11,9%	65,5%	15,8%	5,7%	1,1%
servicios personales	10,4%	54,6%	24,9%	8,9%	1,2%
servicios de vivienda	10,6%	56,6%	23,9%	7,3%	1,6%
administración pública	13,6%	40,1%	29,9%	11,0%	5,3%
Total regionalizado	19,7%	48,4%	24,5%	6,1%	1,3%

De la información anterior responde las siguientes preguntas. Encierra la alternativa correcta en un círculo.

7. De acuerdo al doc. 1 completa la tabla con las 6 regiones con el más alto producto interno bruto.

Región	Producto Interno Bruto

- De acuerdo al doc. 2 contesta.

8. ¿En qué región se concentra la mayor producción minera?

- a) Norte. b) Sur.
 b) Centro. d) Austral.

9. ¿En qué región se concentra la mayor producción de servicios financieros y empresariales?

- a) Norte. b) Sur.
 b) Metropolitana. d) Centro.

10. Completa la tabla con las 5 actividades de más alto porcentaje de producto interno bruto de la región metropolitana.

Actividad económica	Porcentaje de PIB

Actividad III. O.A.22. Diversidad productiva de las regiones de Chile. Lee la información y realiza las actividades.

Diversidad productiva de las regiones.

La mayor parte de las regiones de Chile basa su economía en la explotación de recursos naturales o materias primas, mientras que solo tres de ellas poseen una economía centrada en la industria. El intercambio comercial que predomina en Chile se desarrolla entre sus regiones y el exterior. A nivel nacional, el comercio que se da entre las regiones demuestra una clara tendencia: la Región Metropolitana concentra el consumo de recursos naturales y/o agroindustriales, tales como frutas, hortalizas, cereales, etc., y a su vez, la venta de bienes industrializados.

Doc. 3

Norte Grande

En sus costas abundan los recursos marinos, que son explotados por pescadores artesanales e industriales. Estos últimos se centran en la extracción de anchoveta y jurel, los que se destinan a la producción de harina y aceite de pescado. La minería, basada en la extracción de oro, plata y cobre, entre otros, es una de las principales actividades productivas del país. Sus productos se exportan principalmente a países como China, Japón y Corea del Sur. En esta región se desarrolla la gran minería del cobre, actividad en la que destacan complejos mineros como Chuquibambilla, Radomiro Tomic, El Salvador, Escondida y Cerro Colorado.



▲ Puerto de Arica, Región de Arica y Parinacota.



▲ Huasco, Región de Atacama.

Doc. 4

Norte Chico

En sus valles se desarrolla una importante actividad agrícola relacionada con plantaciones frutícolas y hortícolas. Productos como damascos, paltas, nueces, uva, aceitunas, pisco y diversos aceites tienen como destino el mercado interno y países como Estados Unidos, China, Japón, Corea del Sur, Turquía y México, entre otros. En minería destaca la producción de cobre y, especialmente, la de hierro, que alcanza a la mitad de la producción total del país.

Doc. 5**Zona Central**

Debido al clima templado que predomina en esta región, las actividades agrícolas y la industria alimentaria tienen un escenario privilegiado. Entre los cultivos más característicos se encuentran el trigo, el arroz, el maíz, la manzana, la pera y la uva, cuya producción se destina a Norteamérica, Asia y Europa. Aquí se concentra la producción de bienes manufacturados. Por ejemplo, en la Región Metropolitana se produce cerca del 50 % de bienes como plástico, caucho, textiles y maquinaria. Esta zona, además, alberga refinerías de petróleo, productoras de cemento, petroquímicas y acereras.



▲ Viñedo, Región Metropolitana.

Doc. 6**Zona Sur**

Las actividades productivas de esta zona se relacionan principalmente con la explotación de la tierra y la ganadería. Buena parte de la tierra se ocupa para labores relacionadas con la silvicultura, específicamente para la producción de papel y celulosa. Por otro lado, la agricultura se centra en la producción de cereales, legumbres y arándanos, y el ganado es principalmente porcino, bovino y ovino.



▲ Purranque, Región de Los Lagos.

Wikimedia Commons



▲ Afluente del río Baker, Región de Aysén.

Doc. 7**Zona Austral**

Las actividades productivas de estas regiones se relacionan principalmente con la ganadería ovina y sus productos derivados.

Otras actividades importantes son el cultivo de salmón, cuyos destinos finales son Estados Unidos, Brasil, Japón y Taiwán; y la industria química asociada a los yacimientos de hidrocarburos como el carbón, el petróleo y el gas natural.

11. Lee del doc.2 al doc. 7 y completa la tabla con los principales productos de cada zona.

Norte Grande	Norte Chico	Zona Central	Zona Sur	Zona Austral

Actividad IV. O.A.22. Desafíos de la economía chilena. Lee la información y realiza las actividades.

Desafíos de la economía chilena.

La economía chilena, basada en un **modelo neoliberal** exportador, principalmente de materias primas, apuesta por la apertura comercial y el comercio internacional. Para que los Estados confíen en la economía chilena y establezcan relaciones comerciales con el país, la clave del éxito es la estabilidad económica y política, es decir, mantener cifras **macroeconómicas** positivas y autoridades que cuenten con credibilidad y respaldo ciudadano. En las relaciones económicas que mantiene Chile poseen gran importancia los tratados de libre comercio. Estos constituyen acuerdos comerciales entre dos o más Estados en los que se fija la eliminación o rebaja de los impuestos establecidos a los bienes intercambiados entre aquellos países que los firman. Respecto de los acuerdos comerciales, hay quienes plantean que estos solo benefician a los más ricos, y otros que señalan que todos los Estados firmantes se ven beneficiados, pues permiten el ingreso de productos a un costo menor y promueven la venta de productos nacionales, por lo que se amplían los mercados a los que pueden acceder. Al año 2012, Chile contaba con veintidós acuerdos con cincuenta y nueve países, lo que significa que Chile puede acceder a un mercado internacional que cubre el 62 % de la población mundial. Algunos de los países y las regiones con que Chile tiene acuerdos comerciales son China, Australia, Canadá, Centroamérica, Corea del Sur, la Asociación Europea de Libre Comercio (EFTA), Japón, México, la Unión Europea y Estados Unidos.

Neoliberalismo: sistema económico que limita la intervención del Estado en la economía y promueve la apertura de los mercados y el libre comercio entre países.

Macroeconomía: parte de la teoría económica que se preocupa de estudiar la capacidad, la estructura y el comportamiento de una economía nacional o regional.

Doc. 8

Exportaciones totales y por sector económico (en millones de dólares)

Año	Mineras	Agropecuarias	Silvícolas	Pesca extractiva	Industriales	total
2005	21971,9	2488,0	20,4	53,3	17440,5	41974,0
2006	36438,2	2741,3	18,5	49,4	20132,8	59380,2
2007	42444,9	3209,1	22,9	55,3	22829,2	68561,4
2008	34293,9	3976,2	20,3	69,2	26150,5	64510,1
2009	31877,3	3583,5	14,4	69,9	19917,6	55462,7
2010	44551,6	4268,4	21,7	80,9	22185,9	71108,5
2011	49083,0	4850,1	25,1	93,5	27386,1	81437,8
2012	46302,0	4925,4	23,5	107,2	26607,3	77965,4
2013	43937,4	5568,1	32,9	148,5	26997,4	76684,3

De la información anterior responde las siguientes preguntas.

12. ¿Qué debe tener el país de Chile para que los otros países confíen en establecer relaciones económicas con él?

13. ¿Qué son los tratados de libre comercio?

14. ¿Con qué países Chile ha firmado tratados de libre comercio?

15. Lee el doc. 8 y responde. ¿cuántos millones de dólares exportó Chile en el año 2013?

16. Lee el doc. 8 y responde. ¿En qué dos sectores fueron las mayores exportaciones de Chile en el 2013 y cuántos millones exportó en cada sector?

Te invitamos a repasar los contenidos en el canal de YouTube llamado: **Academia Malloco**.

Que estés muy bien, te saluda el Departamento de Historia, Malvina Olave, María Inés Crespo, Carlos Mallea González.

Pauta de evaluación Guía de estudio

“Historia”

NOTA

- **Guía N°:** 6 (Septiembre 2021)
- **Curso:** 8° básico
- **Nombre Profesor(a):** María Inés Crespo, Carlos Mallea.
- **Nombre estudiante:** _____

N° objetivo	N° página	N° pregunta	Indicadores/habilidades	Puntaje ideal	Puntaje obtenido
O.A.22	4	1 - 6	Representan y caracterizan la diversidad productiva de algunas regiones de Chile y las relacionan con el consumo en distintas escalas.	6	
	6	7 - 10	Analizan las condiciones para lograr un desarrollo sustentable a nivel y proponen distintas soluciones para lograrlo.	4	
	8	11	Caracterizan la diversidad productiva de la regiones.	1	
	10	12 – 16	Analizan aspectos como la conservación de los sistemas naturales, la compatibilidad con el medio, el impacto en la comunidad, la rentabilidad de la producción y otros aspectos relativos a las regiones, y su influencia en el logro de un desarrollo sustentable.	5	
				Porcentaje de evaluación:	16
				60%	

Te invitamos a profundizar los contenidos de esta guía en el texto del estudiante de la página 174 a la 216.

