



Guía N° 6

Asignatura: Historia, Geografía

Docente: María Inés Crespo

Fecha: Septiembre 2021

Curso: 1° año

Nombre del estudiante:

Unidad 3: O.A 9: Identificar a Chile en mapas, incluyendo la Cordillera de los Andes, el Océano Pacífico, la ciudad de Santiago, su región, su capital y su localidad.

Identificar Chile en Mapas y Globo Terráqueo.

Los **mapas** son **representaciones planas** de la superficie de la Tierra completa o partes de ella. Un mapa que presenta completa la superficie de la Tierra, se llama **planisferio**.

Los océanos son grandes masas de agua. En la tierra hay cinco océanos y son: océano **atlántico**, océano **índico**, océano **glacial ártico**, océano **glacial antártico** y océano **pacífico** que es el más grande y baña las costas de Chile.

Observa el siguiente planisferio.

Chile en el mundo



El mar que baña las costas de Chile es el Océano Pacífico.

Chile es recorrido por la Cordillera de los Andes

El país en que vivimos se llama Chile.

Chile es el **país** en que vivimos, es largo y angosto. Se ubica en nuestro planeta llamado **Tierra**.

El mapa **sirve para representar espacios más grandes**, como tú región o los países. Los mapas poseen una **leyenda o simbología**, la que sirve para entender cuál es la información que proporciona. Observa la imagen:



Ahora trabaja tú en el Planisferio: (4 puntos)

- 1.- Pinta Chile de color rojo.
- 2.- Pinta el resto del mundo de color amarillo.
- 3.- Escribe el nombre del océano Pacífico donde corresponde.
- 4.- Pinta de color café la Cordillera de los Andes.

Planisferio




Chile se ubica en un lugar del continente llamado América del Sur.

Ahora **trabaja** en el mapa de América del Sur (4 puntos).

5.- Pinta Chile de color rojo.

6.- Pinta el resto de América del Sur de color amarillo.

7.- Escribe el nombre y pinta el Océano Pacífico donde corresponde.

8.- Dibuja  montañitas donde se ubica la cordillera de los Andes en el mapa de América del sur.

Mapa de América del Sur




La capital de Chile es **Santiago** ubicada en la **Región Metropolitana**.

Chile se divide en **16 regiones**. Cada región se compone de provincias que es la capital regional y estas de ciudades.

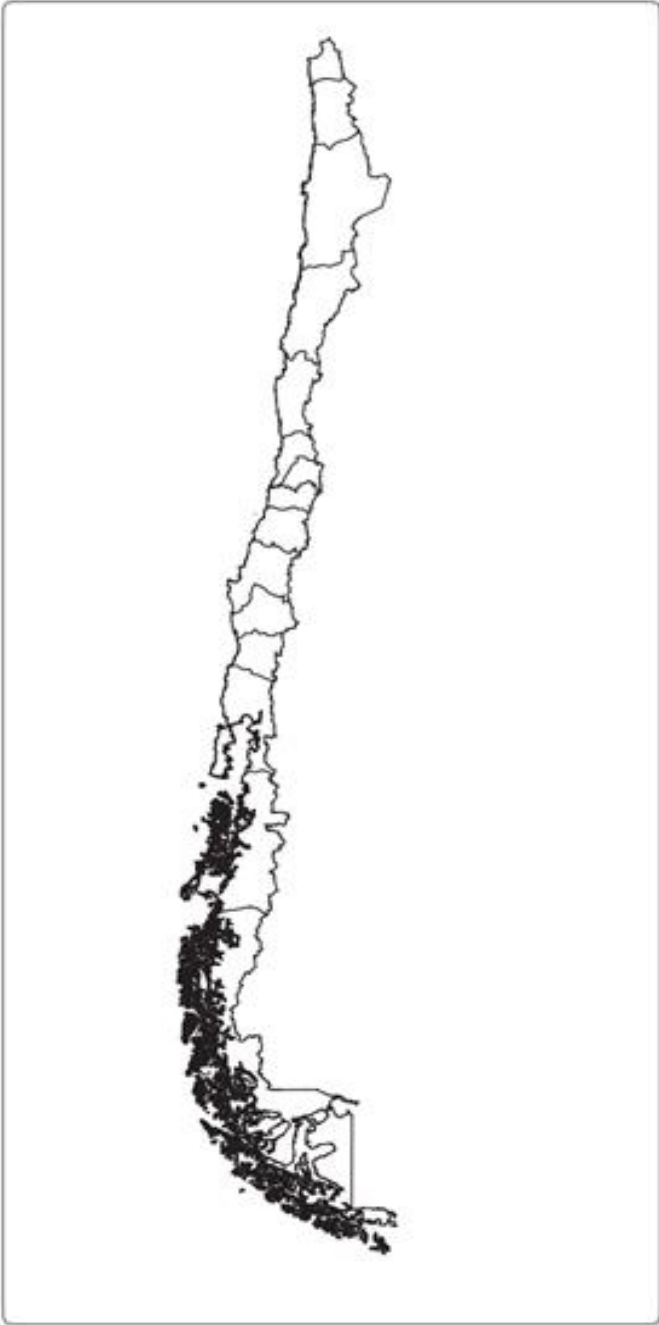
Peñaflor es una **comuna** del sector surponiente de la ciudad de Santiago de Chile perteneciente a la provincia de Talagante, región metropolitana de Santiago.

Trabaja en el mapa de Chile. (5 puntos)

- 9.- Pinta rojo en el mapa dónde se ubica **Santiago**, la capital de Chile.
- 10.- Dibuja  dónde se ubica la Cordillera de Los Andes en este mapa regionalizado.
- 11.- Encierra la región en que tú vives de un color a tu gusto.
- 12.- Pinta el resto de las regiones de tú color favorito.
- 13.- Pinta celeste el océano Pacífico donde corresponde y escribe su nombre.



Mapa de Chile regionalizado



Chile se ubica en el continente llamado América.

14.- En este mapa de América, pinta a Chile de color rojo. (1 punto)

Chile en América



El **Globo terráqueo** es la representación que más se parece a la forma real de la Tierra porque también es una esfera.

Su desventaja es que no podemos ver toda la superficie de una sola vez. Tenemos que hacerlo girar para ubicar distintos puntos del planeta.

15.- En este **globo terráqueo**, pinta a Chile del mismo color que lo pintaste en el mapa. (1 punto)

Chile en el globo terráqueo



Lee y encierra la respuesta correcta de las siguientes preguntas: (5 puntos)

16.- Nombre de la región donde vives.

- a) Región Metropolitana
- b) Región de Atacama
- c) Región de Valparaíso

17.- ¿Cómo se llama la capital de Chile?

- a) Valparaíso
- b) Santiago
- c) Concepción

18.- ¿Cuál es el nombre de la comuna dónde vives?

- a) Talagante
- b) Peñaflor
- c) Malloco

19.- Nombre del continente donde se ubica Chile.

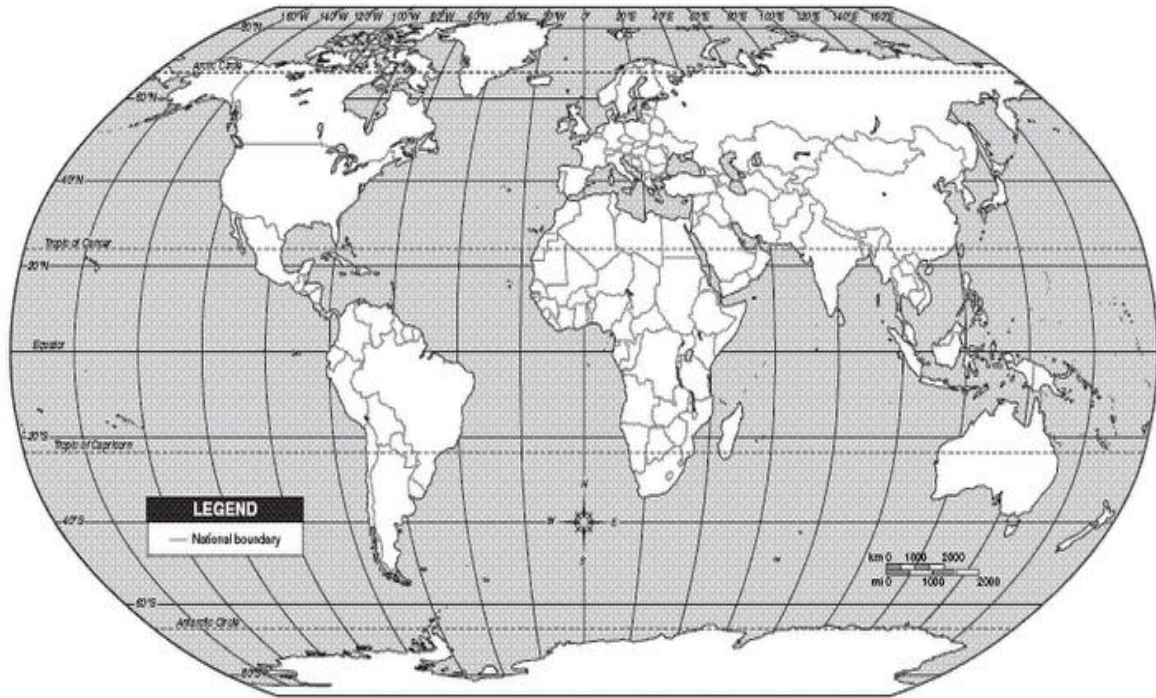
- a) América
- b) África
- c) Asia

20.- En que parte de América se ubica Chile en.

- a) América del sur
- b) América del norte
- c) América central

Recordemos que los mapas representan espacios más grandes que los planos, como por ejemplo una región, un país, un continente o el planeta

21.- Observa el planisferio (mapa de forma plana) y luego realiza las actividades.
(3 puntos)



- Pinta de verde el **continente americano**.
- Encierra con café la **región sur de América**.
- Pinta con rojo **Chile**.

Ubicación de Chile y los países limítrofes

Nuestro país se encuentra en América, y dentro de ella en América del sur. Se ubica al Sur- oeste de América del Sur. Chile limita al Norte con Perú, al Sur con el Polo Sur, al Este con Argentina y Bolivia y al Oeste con el Océano Pacífico.



Puntos cardinales: Son puntos de referencias imaginarios.

Nuestro continente es América

Descubre Chile en el mapa de América del sur siguiendo las instrucciones.

22.- Pinta Chile y sus países limítrofes de diferentes colores y escribe sus nombres. (4 puntos)

Mapa América del sur



O.A 10: Observar y describir paisajes de su entorno local, utilizando vocabulario geográfico adecuado (país, ciudad, camino, pueblo, construcciones, cordillera, mar, vegetación y desierto) y categorías de ubicación relativa (derecha, izquierda, delante, detrás, entre otros).

Paisajes

En los **paisajes** que vemos en nuestro entorno podemos ver diferentes elementos. Algunos de ellos son **naturales**, como las **cordilleras**, el **mar**, el **desierto** o los **bosques**. Otros son **hechos por los seres humanos paisajes culturales**, como las **ciudades**, los **pueblos**, los **caminos** y las **construcciones**.

23.- Observa cada fotografía y escribe su nombre (4 puntos)

Cordillera - mar - desierto - bosque



24.- Une cada fotografía con el nombre que le corresponde (vocabulario geográfico). (4 puntos)



Ciudad



Construcción



Pueblo




Camino

Características del paisaje natural de mi región y localidad.

El **paisaje natural** está formado por todo lo que vemos a nuestro alrededor y que no ha sido creado por los seres humanos, sino que es producto de la naturaleza. Todos los elementos que forman parte del paisaje natural, como los ríos, las montañas, la vegetación y los animales, entre otros, reciben el nombre de **elementos naturales**.

25.- Observa y pinta 3 elementos naturales que distingas en este paisaje.



Características del paisaje cultural de mi región y localidad.

Todos los elementos del paisaje que han sido hechos por los **seres humanos** se llaman **elementos culturales**.

En el paisaje del lugar donde vivimos existen también muchos **elementos culturales**, tales como carreteras, caminos, calles, líneas de tren, casas, edificios, oficinas, comercio, postes y cables, colegios, hospitales, sembrados, entre muchos otros.

26.- Observa y luego pinta 3 elementos culturales que distinguen en este paisaje. (3 puntos)



Observa la imagen y responde a continuación. (2 puntos)



27.- ¿A qué paisaje corresponde la imagen?

- a) Paisaje de ciudad
- b) Paisaje de montaña.
- c) Paisaje de campo


Observa la imagen y responde a continuación.



28.- ¿Qué elementos naturales observas en la imagen?

- a) Edificios y autos.
- b) Montañas y árboles.
- c) Autos y árboles

❖ ¡Ahora puedes profundizar tus aprendizajes con en el texto escolar!



Para repasar y profundizar los contenidos tratados lee tu texto de estudio, desde la páginas: 82 a 97 y realiza las actividades.

Cualquier duda dirigirse al correo: academiamallocohistoria@gmail.com

Pauta de evaluación Guía de estudio**“Historia”**

- **Guía N°:** 6 (Septiembre 2021)
- **Curso:** 1° básico
- **Nombre Profesor(a):** María Inés Crespo – Carlos Mallea.
- **Nombre estudiante:** _____

NOTA

N° objetivo	N° página	N° pregunta	Indicadores/habilidades	Puntaje ideal	Puntaje obtenido
O.A 9	3	1- 2-3- 4	Identifican en el planisferio el continente donde se ubica Chile, el océano y la cordillera.	4	
	4	5 – 6 - 7 – 8	Identifican en el mapa de América del sur donde se ubica Chile, el océano y la cordillera	4	
	5	9 – 10 – 11- 12- 13-	Identifican en el mapa de Chile regionalizado su región, la capital, la cordillera y océano.	5	
	6	14	Identifican en el mapa del continente americano donde se ubica Chile.	1	
	7	15	Identifican a Chile en el globo terráqueo.	1	
	8	16 – 17 18 – 19 20	Reconoce su región, capital, comuna, región y continente	5	
	9	21	Identifican en el planisferio, el continente americano, América del sur y Chile.	3	
	11	22	Identifica en el mapa de América del sur a Chile y los países limítrofes o vecinos.	4	
O.A 10	12	23	Reconocen los diferentes paisajes	4	
	13	24	Reconocen vocabulario geográfico	4	
	14 -15	25-26	Reconocen características de un paisaje natural y uno cultural.	6	
	16	27-28	Entienden la diferencia de un paisaje natural con uno cultural.	2	
			Puntaje Total:	43	
		Porcentaje de evaluación:	60%		