



ACADEMIA
MALLOCO
aprender creciendo

Guía de estudio N° 5

Asignatura: Historia

Docente: María Inés Crespo

Fecha: Agosto 2021

CURSO: 4 año

NOMBRE ALUMNO(A):

Unidad 3 Geografía

O.A 8 Describir distintos paisajes del continente americano, considerando climas, ríos, población, idiomas, países y grandes ciudades, entre otros, utilizando vocabulario geográfico adecuado.

Ubicación de América en el mundo

América es el segundo continente más grande de la Tierra y se caracteriza por su diversidad física y humana. En ella encontramos diversos paisajes y culturas. América es el continente en el cual se ubica Chile.

¿Dónde está América?

América es el continente en el cual habitamos. Se ubica en el hemisferio Oeste, aproximadamente entre el paralelo 80° latitud norte hasta el paralelo 56° de latitud sur. Su superficie es de más de 42.000.000 de Km², siendo el segundo más grande luego de Asia. **Los océanos** que bañan sus costas son, por el Norte el Océano Glaciar Ártico, por el Este el Océano Atlántico, por el Oeste el Océano Pacífico, bañando la confluencia de estos dos últimos las tierras más australes de nuestro continente.

Hay varias formas de subdividir el continente americano, dependiendo de diversos criterios, pero el más importante es el que se refiere a las

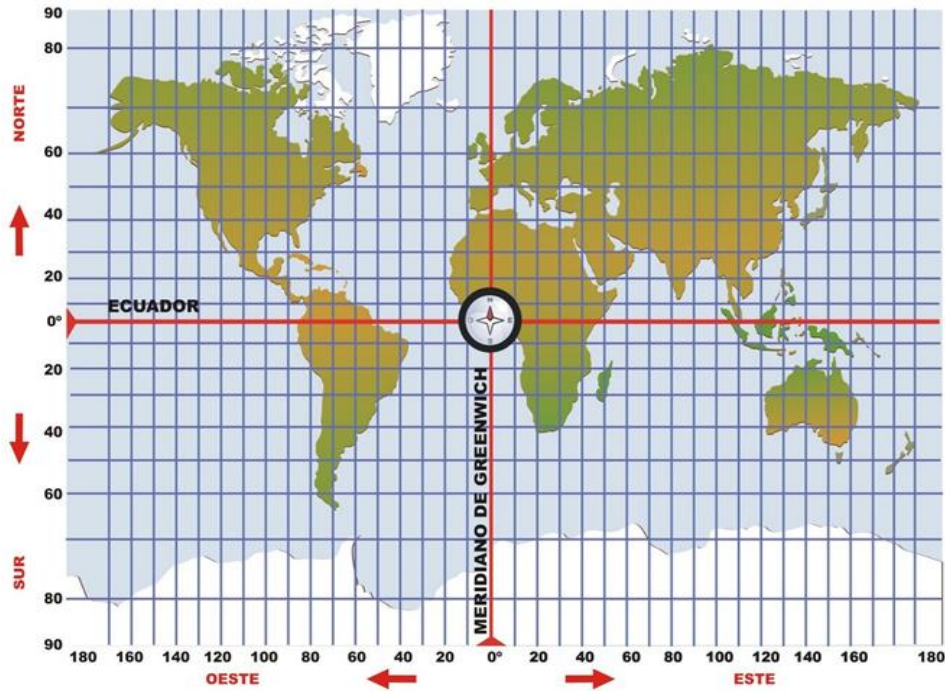
“Regiones Políticas”:

América del Norte

América Central y el Caribe

América del Sur

Observa el mapa. Luego, realiza las actividades.



1) Marca con una X los hemisferios en que se ubica el continente americano.

Hemisferio norte:

Hemisferio sur:

Hemisferio este:

Hemisferio oeste:

2) Señala cuál es la ubicación de América utilizando como referencias los océanos que la rodean y los puntos cardinales.

América se ubica al **sur** del océano _____

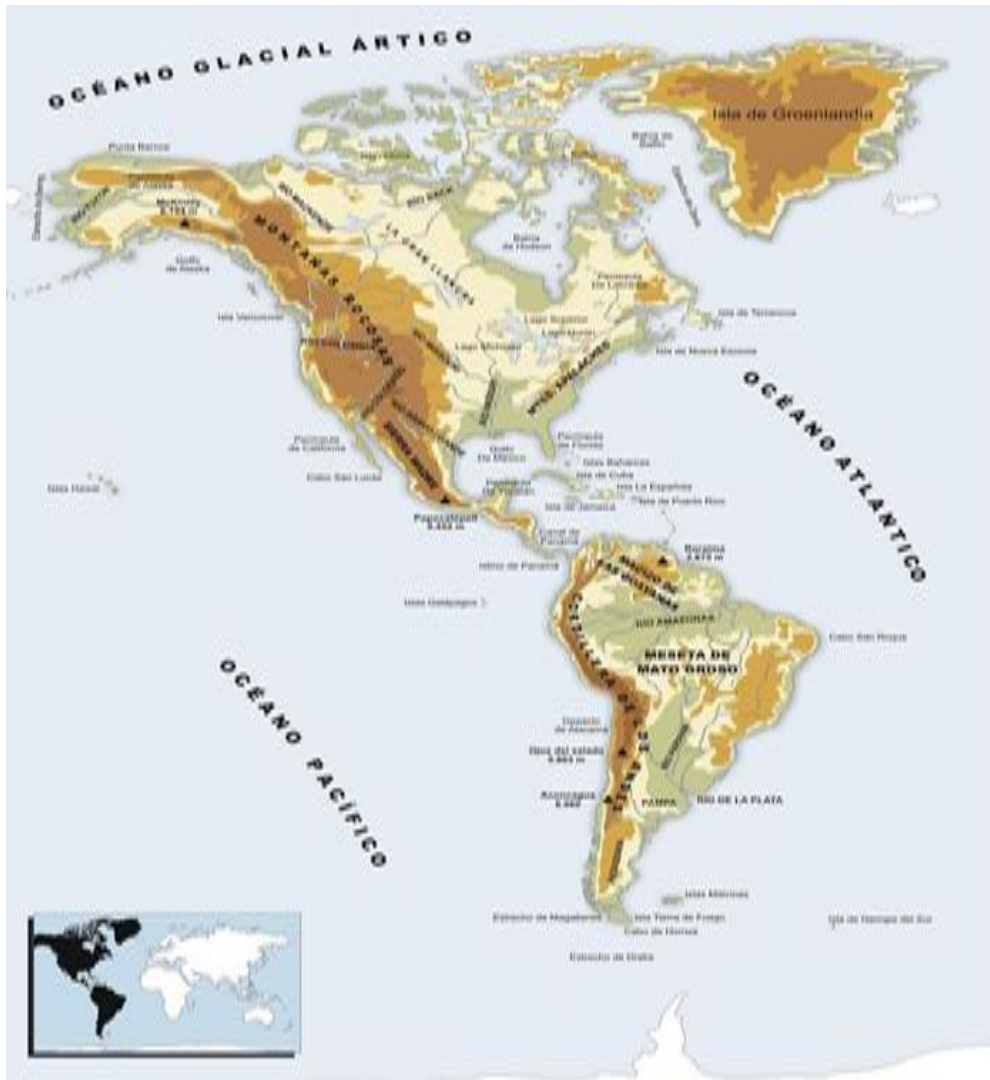
al **norte** del océano _____

al **este** del océano _____

y al **oeste** del _____

Relieve y aguas superficiales

El **paisaje americano** se caracteriza por las distintas formas del relieve como las **cordilleras**, los **macizos**, extensas **costas** y amplias **planicies** entre otras. También en América existen importantes reservas de agua en **ríos**, **lagos** y **glaciares**.



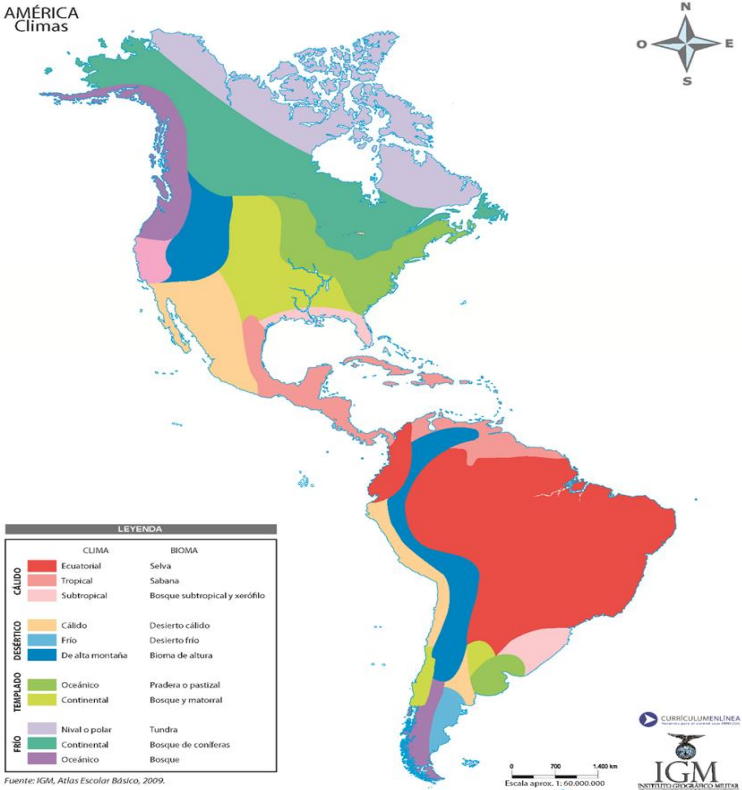
3.- Ahora haz tu propio mapa físico de América pintando en tono de café las zonas elevadas, de verde las zonas bajas y de azul los ríos de acuerdo al modelo anterior.

4.- Ubica y escribe el nombre de los siguientes relieves: cordillera de Los Andes, montañas Rocosas, meseta de Mato Grosso y la sierra Madre.

5.- Ubica y escribe el nombre de los siguientes ríos: río Amazonas, río Paraná, río de La Plata y el río Misisipi.



En **América** hay una gran variedad de **climas** producto de la acción de los diversos factores como el viento, el agua, el frío y el calor. El continente americano es el que tiene mayor variedad de climas debido al gran tamaño que tiene y el gran espacio que ocupa en el mundo.



América del Norte










Comprende una gran masa de tierra formada por tres grandes países: Canadá, Estados Unidos y México.

N.º	PAÍS	CAPITAL
1	 Canadá	Ottawa
2	 Estados Unidos	Washington D. C.
3	 México	Ciudad de México

América Central



Es una angosta franja de tierra que une América del Norte y América del Sur. Aquí se encuentran Guatemala, Belice, El Salvador, Honduras, Nicaragua, Costa Rica y Panamá. Además están las Antillas, donde se reúnen una serie de países islas como: Cuba, Jamaica, Haití, República Dominicana, Puerto Rico y muchas otras islas pequeñas.

N.º	PAÍS	CAPITAL
1	 Antigua y Barbuda	Saint John's
2	 Bahamas	Nasáu
3	 Barbados	Bridgetown
4	 Belice	Belmopán
5	 Costa Rica	San José
6	 Cuba	La Habana
7	 Dominica	Roseau
8	 El Salvador	San Salvador
9	 Granada	Saint George
10	 Guatemala	Ciudad de Guatemala

11	 Haití	Puerto Príncipe
12	 Honduras	Tegucigalpa
13	 Jamaica	Kingston
14	 Nicaragua	Managua
15	 Panamá	Panamá
16	 República Dominicana	Santo Domingo
17	 San Cristóbal y Nieves	Basseterre
18	 San Vicente y las Granadinas	Kingstown
19	 Santa Lucía	Castries
20	 Trinidad y Tobago	Puerto España

América del Sur

Está formada por doce países: Colombia, Venezuela, Guyana, Surinam, Ecuador, Brasil, Perú, Bolivia, Paraguay, Uruguay, Argentina y Chile.

N.º	PAÍS	CAPITAL
1	 Argentina	Buenos Aires
2	 Bolivia	Sucre
3	 Brasil	Brasilia
4	 Chile	Santiago de Chile
5	 Colombia	Bogotá
6	 Ecuador	Quito

7	 Guyana	Georgetown
8	 Paraguay	Asunción
9	 Perú	Lima
10	 Surinam	Paramaribo
11	 Uruguay	Montevideo
12	 Venezuela	Caracas

Relieve de América En el relieve del continente americano se distinguen grandes cadenas montañosas, viejos macizos, extensos valles y grandes llanuras.

Relieve de América del Norte: En el occidente de América del Norte y Central se destacan las montañas Rocosas, que se extienden desde Alaska hasta el extremo sur de Estados Unidos, y las sierras Madre Occidental y Oriental en México. Estas sierras ocupan una gran superficie y detienen la influencia marítima hacia los territorios planos o mesetas. El relieve oriental de Norteamérica es menos pronunciado, pues ha sufrido una intensa erosión que ha desgastado su altitud, por lo que no supera los 2.000 metros, como los montes Apalaches. Desde el océano Glacial Ártico hasta el golfo de México, se extienden las grandes planicies o llanuras formadas por rocas estables, desgastadas por la erosión y rellenadas por sedimentos que transportan los ríos.

Relieve de América Central: América Central es recorrida por dos sistemas de montañas: el Septentrional que tiene su origen al sur de México y el Meridional se extiende desde Nicaragua. **El istmo de Panamá**, también conocido como istmo de Darién, es un accidente geográfico localizado en Panamá, entre los océanos Pacífico y el Atlántico, que une a América del Sur y a América Central. Tiene una longitud de unos 700 kilómetros, su ancho varía entre cincuenta y doscientos kilómetros.

Relieve de América del Sur: La Cordillera de los Andes constituye el eje central de América del Sur, por su elevación y continuidad. Se extiende a lo largo de 7.500 Km. presentando elevaciones que superan los 6.000 metros de altitud. Muestra un intenso volcanismo debido a que se encuentra en el Cinturón de Fuego del Pacífico. En su parte central se ha formado un extenso altiplano en Bolivia, Perú, al norte de Chile y Argentina con una altitud promedio de 3.600 metros aproximadamente. El sector oriental está compuesto por macizos como el macizo Guayanés y el Brasileiro, ambas mesetas bajas de

gran estabilidad sísmica. Los grandes ríos, como el Orinoco, el Amazonas y Río de la Plata han rellenado con sus sedimentos vastas regiones como la Amazonía, el Chaco y la pampa. En el sector más austral de América del Sur destaca la Patagonia, cuyo relieve es relativamente plano y desciende escalonadamente hacia el litoral argentino, destaca en Chile las Torres del Paine.

Vocabulario geográfico

Montaña: Se trata de una elevación del terreno superior a 700 metros. Se agrupan en cordilleras o sierras



Nevado Ojos del Salado. Cumbre más alta de la Cordillera de los Andes

Sierra: Se trata de montañas antiguas, que debido a la erosión son bajas y tienen forma de “sierra”



Sierra Madre Oriental en México.

Cordillera: Es una sucesión de montañas enlazadas entre sí.



Cordillera de los Andes en América.

Golfo: El golfo es una parte del océano de gran extensión que está encerrada por puntas de tierra (cabos)



Golfo de México en América Central.

Istmo: Es una franja estrecha de tierra que une, a través del mar, dos áreas mayores de tierra, en general con orillas en ambos lados.



Istmo de Panamá en América Central.

Isla: Porción de tierra que está rodeada de mar por todas partes.



Isla de Pascua en América del Sur.

Archipiélago: Conjunto de islas.



Archipiélago de las Bahamas en América Central.

Altiplano: Es una meseta o terreno plano que se encuentra entre dos montañas.



Altiplano Andino en América del Sur.

Macizo: Antiguas cordilleras volcánicas muy erosionadas.



Macizo Guayanes en Venezuela.

Pampa: Se trata de llanuras extensas en América del Sur, sin vegetación arbórea.



Pampa argentina en América del Sur.

Ríos: Son corrientes de agua con cauce fijo y un curso más o menos regular.



Río Baker en el sur de Chile.

Península: Es una porción de tierra cercada por el agua y unida a otra tierra de extensión mayor por una parte relativamente estrecha.



Península de Taitao en el sur de Chile.

7.- ¿Cómo crees que son los paisajes de cada clima?

Cálido	
Desértico	
Templado	
Frío	

8.- Observa los siguientes paisajes. Luego, indica a qué clima corresponden.



América y su población

En **América** hay **930 millones de habitantes** en **35 países**. En la mayor parte de los países americanos se habla español. El segundo idioma en importancia es el inglés, seguido por el francés. En la mayoría de los países se conservan, también, lenguas originarias, algunas de las cuales tienen reconocimiento como idioma oficial, como es el caso del quechua en Perú y el guaraní en Paraguay.

Mapa de idiomas americanos



Idiomas más hablados y más importantes de América

<http://mapasdecostarica.blogspot.com> 2012

Observa el mapa de idiomas y el mapa político y responde.

1.- ¿Qué idioma hablan los brasileños?

2.- ¿En qué países se habla quechua?

3.- ¿Cuál es el idioma principal que se habla en Estados Unidos?

Responde consultando un atlas o el texto del estudiante.

1- Une cada bandera con el idioma que le corresponde.
Recuerda que hay países en que se habla más de un idioma.



Español

Inglés



Francés

Portugués



Guaraní

Maya



Francés

2.- América es un continente en el que se pueden diferenciar dos grandes masas de tierra unidas por una angosta franja. Entre los países que la conforman, en la zona central se ubica:

- A) Estados Unidos
- B) México
- C) Nicaragua
- D) Venezuela

3.- El continente Americano se encuentra dividido en tres regiones geográficas, siendo una de estas

- A) América central
- B) Las Antillas
- C) El Amazonas
- D) Alaska

- 4.- El continente americano se caracteriza por poseer en su territorio, todos los tipos de clima, para el caso chileno este se caracteriza por tener en su zona central el:
- A) Clima Cálido
 - B) Clima Templado
 - C) Clima frío
 - D) Clima Árido
- 5.- Uno de los paisajes característicos de América del Sur la que se encuentra constituida por una cuenca hidrográfica, el que es un espacio donde escurre una considerable corriente de agua, esta definición se refiere a:
- A) Las Cataratas del Niágara
 - B) Rio Amazona
 - C) Rio Mississippi
 - D) Rio Colorado
- 6.- Los países que conforman América del norte son:
- A) Canadá - Estados Unidos - México
 - B) Canadá – Estados Unidos – Puerto Rico
 - C) Estados Unidos – Guatemala - México
 - D) Estados Unidos – Costa rica - México
- 7.- En la mayoría de los países de América Central y América del Sur, la lengua preponderante es el español. De acuerdo a esta afirmación que país de América del Sur no habla el idioma español.
- A) Argentina
 - B) Estados Unidos
 - C) Canadá
 - D) Brasil
- 8.- Entre las características climáticas en el continente podemos encontrar climas como el desértico, este se encuentra, en la zona de:
- A) Los trópicos
 - B) En América central
 - C) En el meridiano de Greenwich
 - D) En el ecuador
- 9- El continente americano se extiende desde el hemisferio norte hasta el hemisferio sur por lo que posee:
- A) regiones con escasa productividad económica.
 - B) bajo costo en las construcciones.
 - C) gran diversidad de climas y paisajes
 - D) escasa diversidad de climas y paisajes

10- El continente americano presenta variados climas que van desde los fríos polares y continentales al norte hasta los:

- A) secos y tropicales al sur.
- B) cálidos, desérticos y templados hacia el sur.
- C) húmedos y secos al sur.
- D) secos y húmedos al norte.

11- Los ríos extensos y navegables de América del Norte desembocan en el océano:

- A) Pacífico.
- B) Índico.
- C) Atlántico.
- D) Glacial Ártico

12- Los ríos cortos y torrentosos corren hasta:

- A) la cuenca del Pacífico.
- B) la cuenca del río Amazonas.
- C) el estuario del río de La Plata.
- D) el río Loa

13- La cuenca más importante de América del norte está formada por:

- A) el río Mississippi y el río Missouri.
- B) el río Amazonas y el río Orinoco.
- C) el río Motagua y el río Coco.
- D) el río Loa y el río Missouri.


14- La cuenca más caudalosa del mundo es la del río:

- A) Orinoco.
- B) Amazonas.
- C) Río de la Plata.
- D) Río Motagua

15- Las cataratas más grandes y hermosas de América del norte son las del:

- A) Usumacinta.
- B) Niágara..
- C) Amazonas.
- D) Salto del Ángel

- ❖ ¡Ahora puedes profundizar tus aprendizajes en el texto escolar! En las páginas 18 a 31



Cualquier duda dirigirse al correo: academiamallochistoria@gmail.com

Pauta de evaluación Guía de estudio

“Historia”

- Guía N°: 5 (Agosto 2021)
- Curso: 4° básico
- Nombre Profesor(a): María Inés Crespo Fuentes.
- Nombre estudiante: _____

NOTA

N° objetivo	N° página	N° pregunta	Indicadores/habilidades	Puntaje ideal	Puntaje obtenido
O.A 6	2	1- 2	Identifican los hemisferios y océanos	7	
	3	3 - 4 - 5	Identifican relieve en el mapa y ubican	11	
	11	7	Reconocen los diferentes paisajes.	8	
		8		4	
	12	1 – 2 - 3	Identifican diferentes idiomas en América	3	
	13	1	Reconocen los diferentes idiomas hablados en América.	7	
		2 - 3		2	
	14	4 - 5- 6	Reconocen el relieve y clima en América	6	
	7 – 8- 9				
15	10 – 11 – 12-13- 14 - 15	Reconocen el relieve y clima en América	6		
		Puntaje Total:	54		
		Porcentaje de evaluación:	60%		