



NOMBRE ALUMNO(A):

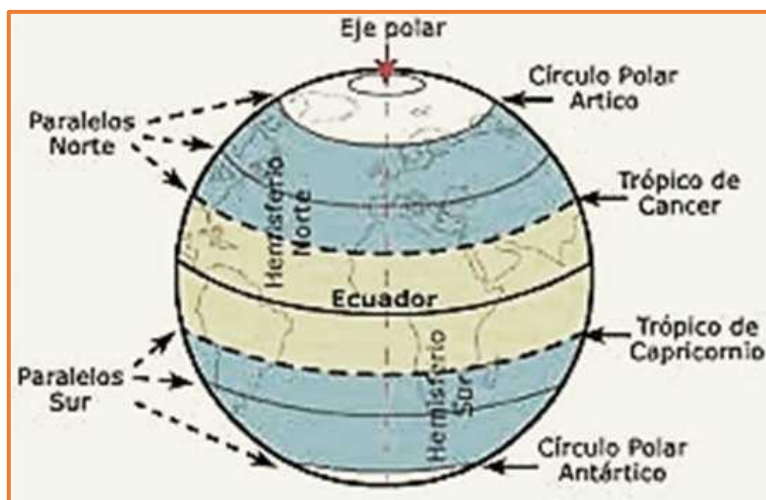
Unidad 3

O. A 6: Ubicar personas, lugares y elementos en una cuadrícula, utilizando líneas de referencia y puntos cardinales

Líneas de referencias.

Para orientarnos podemos usar los puntos cardinales y las líneas de referencias. Estas son líneas imaginarias que los cartógrafos han trazado sobre los mapas para que podamos ubicar distintos lugares del planeta.

Las líneas de referencia de la Tierra son **la línea del Ecuador, los trópicos y los círculos polares.**



Línea del Ecuador: Se ubica en la parte más ancha del planeta y corresponde a la línea imaginaria más importante, pues **divide a la Tierra en dos partes iguales: el hemisferio norte y el hemisferio sur.**

Los trópicos: Son líneas imaginarias que se encuentran al norte y al sur del ecuador. La línea que está en el hemisferio norte se llama **trópico de cáncer** y la que está en el hemisferio sur se conoce como **trópico de capricornio.**

Los círculos polares: Son círculos imaginarios que se ubican cerca de los polos. La línea que se encuentra en el hemisferio norte se llama **círculo polar ártico** y las que se encuentran en el hemisferio sur **círculo polar antártico.**

Los extremos del mundo:

Los polos, son lugares cercanos al eje terrestre, sobre el cual gira nuestro planeta. El situado al norte se llama polo norte y el situado en el extremo sur, polo sur.


Actividad

Encierra la respuesta correcta:

- 1.- ¿Cuál de las líneas de referencia divide a la Tierra en dos hemisferios?
 - a) Línea del Ecuador
 - b) Trópico de Cáncer
 - c) Círculo Polar

- 2.- ¿En qué hemisferio se encuentra el trópico de capricornio?
 - a) Hemisferio norte
 - b) Hemisferio sur
 - c) Hemisferio central

- 3.- En la siguiente figura marca la línea del Ecuador con lápiz de color rojo y escribe el nombre de los hemisferios que se forman.



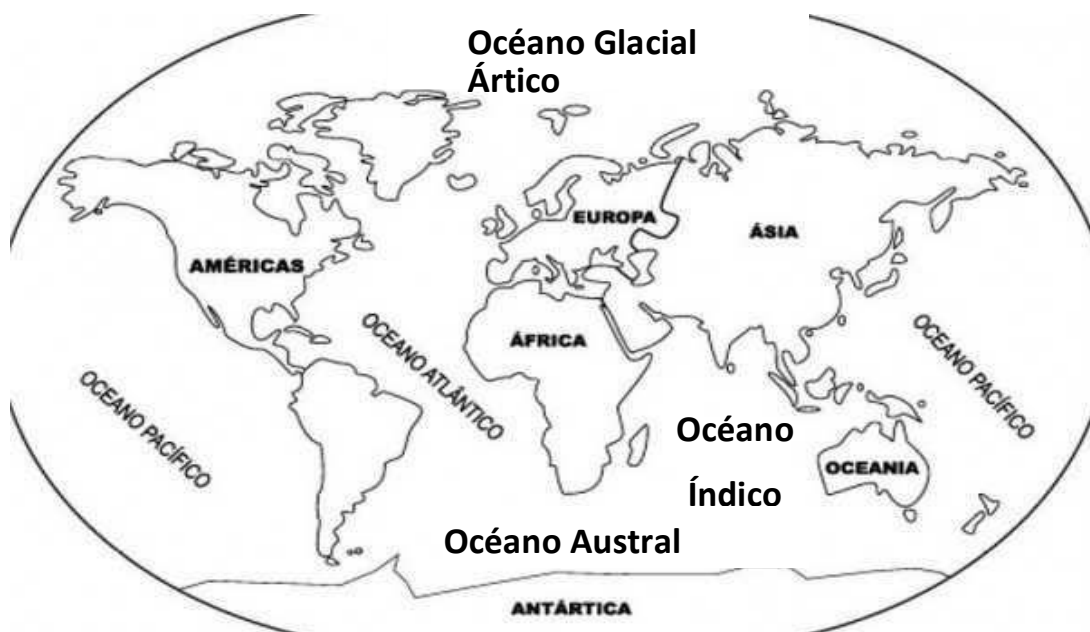
Continentes y océanos.

Los continentes, son grandes extensiones de tierra separadas entre sí por los océanos.

Una forma de distinguir los continentes es por su tamaño. El más extenso es Asia, seguido por América, África, Antártica, Europa y Oceanía, que es el más pequeño.

En cambio los océanos son grandes masas de agua que cubren gran parte de la Tierra, los océanos también varían mucho de tamaño. El más extenso es el Pacífico, seguido del Atlántico, el Índico, el Austral y el Ártico, que es el más pequeño.

Observa la imagen y responde las preguntas.



4.- ¿Cuántos continentes tiene la Tierra?

- a) 5
- b) 6
- c) 4

5.- ¿Cuántos océanos tiene la Tierra?

- a) 3
- b) 4
- c) 5

6.- ¿Qué continentes tienen territorio en el hemisferio norte?

- a) América – Oceanía - Antártica
- b) África – Oceanía - Antártica
- c) América –Europa – Asia

7.- ¿Qué continentes tienen territorio en el hemisferio sur?

- a) América –Europa – Asia
- b) América – Oceanía - Antártica
- c) Asia – Oceanía - Antártica

8.- ¿Qué océano baña las costas de Chile?

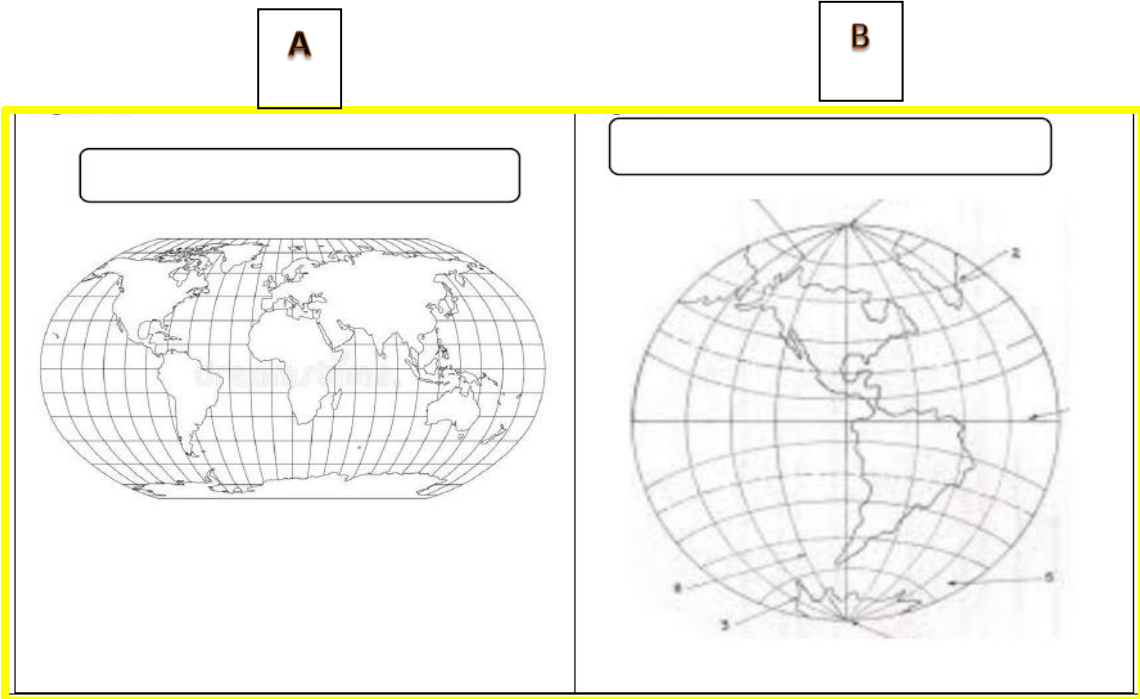
- a) Océano Índico
- b) Océano Pacífico
- c) Océano Atlántico

9.- ¿Qué continente tiene contacto con el océano Pacífico?

- a) África
- b) Europa
- c) América

¿Qué elementos nos ayudan a ubicarnos?

10.- Escribe el nombre correcto de cada representación del planeta.



Ahora contesta las siguientes preguntas:

11.- La figura **A** es una representación

Plana

En volumen

12.- A qué figura corresponde este enunciado:

“Se puede observar de una sola vez todos los continentes y los océanos.”

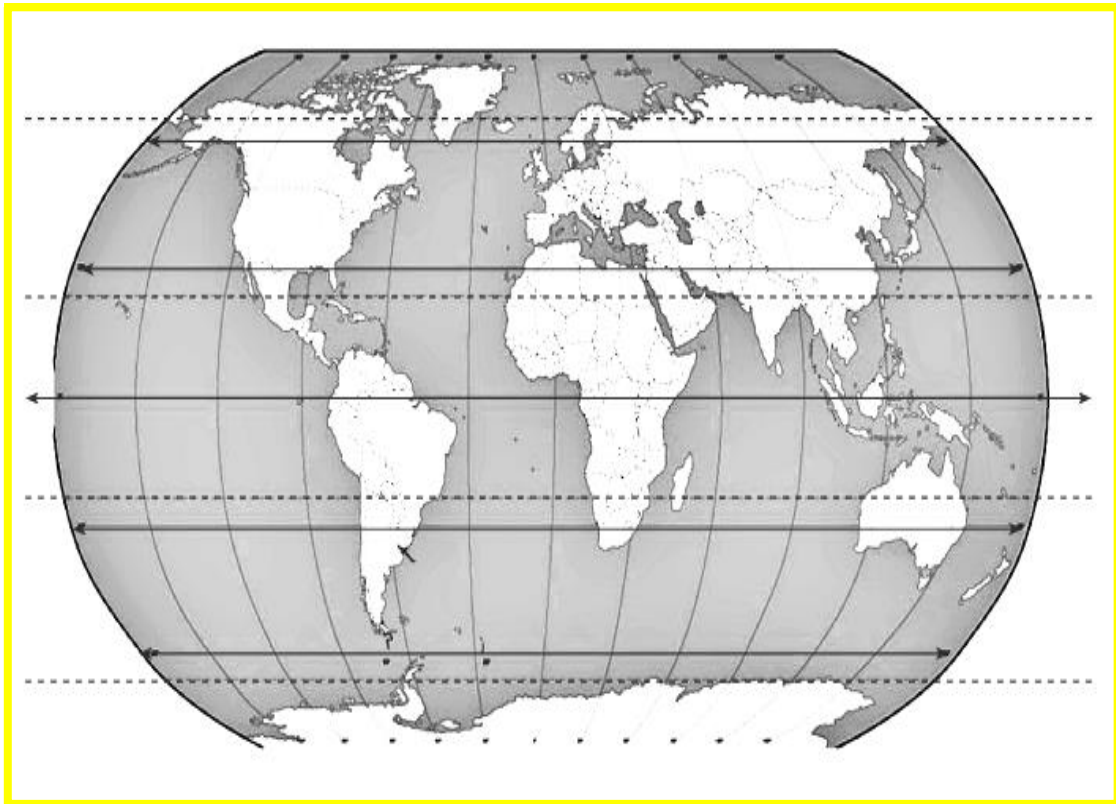
- a) mapa
- b) plano
- c) mapamundi

13.- ¿Qué representación es?

“No permite ver todo de una sola vez, aunque su representación es la más parecida a la realidad de la Tierra”.

- a) Globo terráqueo
- b) plano
- c) mapamundi

14.- En el siguiente planisferio identifica las líneas imaginarias.
Deberás marcarlas con el color que la simbología indique



ROJO: LÍNEA DEL ECUADOR

AZUL: TRÓPICO DE CÁNCER

CAFÉ: TRÓPICO DE CAPRICORNIO

NARANJO: CÍRCULO POLAR ÁRTICO

MORADO: CÍRCULO POLAR ANTÁRTICO

VERDE: MERIDIANO DE GREENWICH.

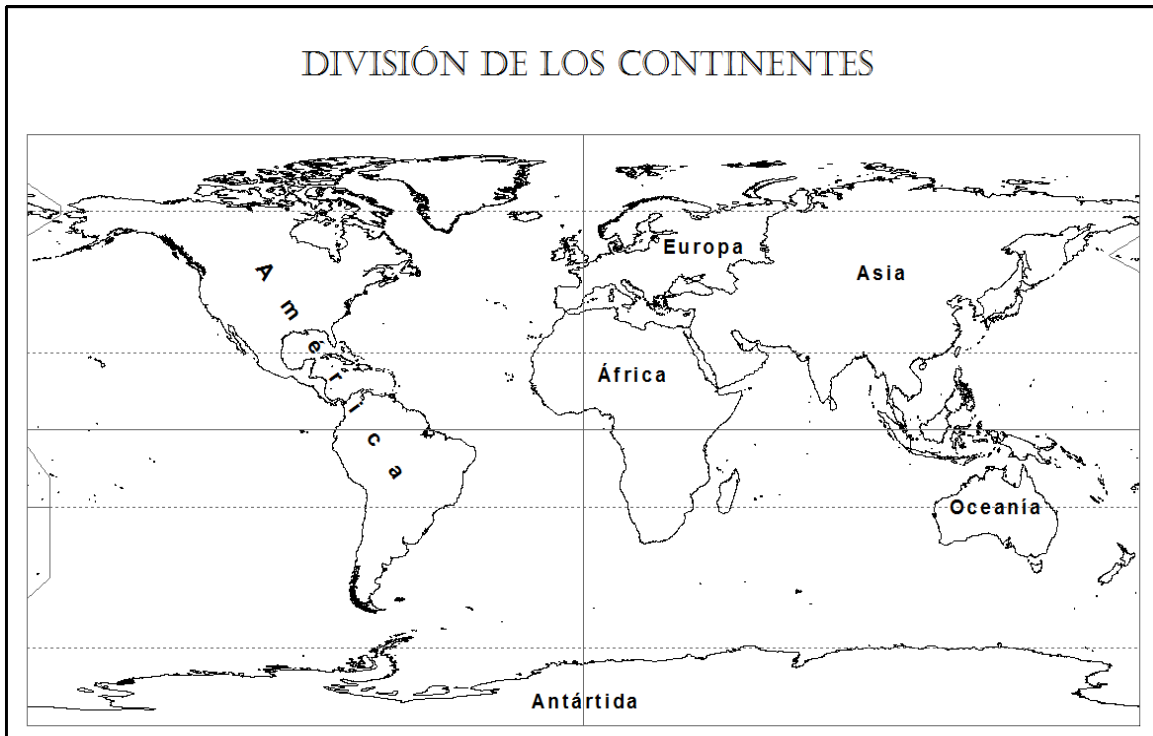
15.- El trópico que pasa por Oceanía es:

- a) Trópico de Cáncer
- b) Trópico de Capricornio
- c) Trópico del Ecuador

16.- Encierra en un círculo de color azul al continente **EUROPA**, luego pinta los continentes de los siguientes colores:

América: verde **África:** café **Europa:** roja

Asia: amarilla **Oceanía:** rosada **Antártida:** azul oscuro



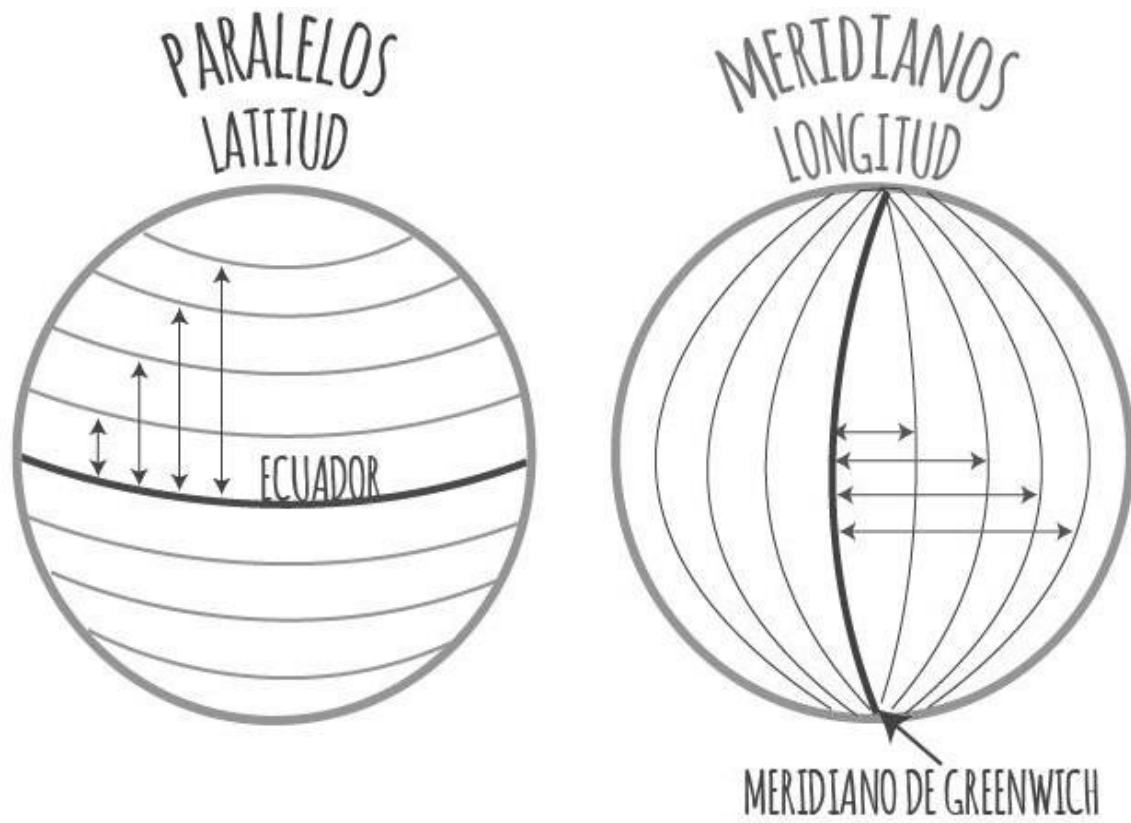
Las **LÍNEAS IMAGINARIAS** Son aquellas que el hombre utiliza para ubicarse o para encontrar un punto en la superficie terrestre. Estas ayudan, además a dividir a la Tierra de **ESTE a OESTE** y **NORTE a SUR.**

Estas líneas se **dividen en:**

PARALELOS : Son líneas horizontales que rodean la Tierra de este a oeste. Su principal paralelo es la **LÍNEA del ECUADOR** la cual divide la superficie de la Tierra en **HEMISFERIO NORTE y SUR.**

MERIDIANOS: Son líneas verticales que van de polo a polo (**norte a sur**). Su principal meridiano es la **LÍNEA de GREENWICH** que divide a la Tierra en **HEMISFERIO OESTE y ESTE.**

17.- **Repasa** con lápiz de color rojo la Línea del Ecuador y con verde los demás paralelos. El meridiano de Greenwich con azul y el resto de los meridianos naranja.



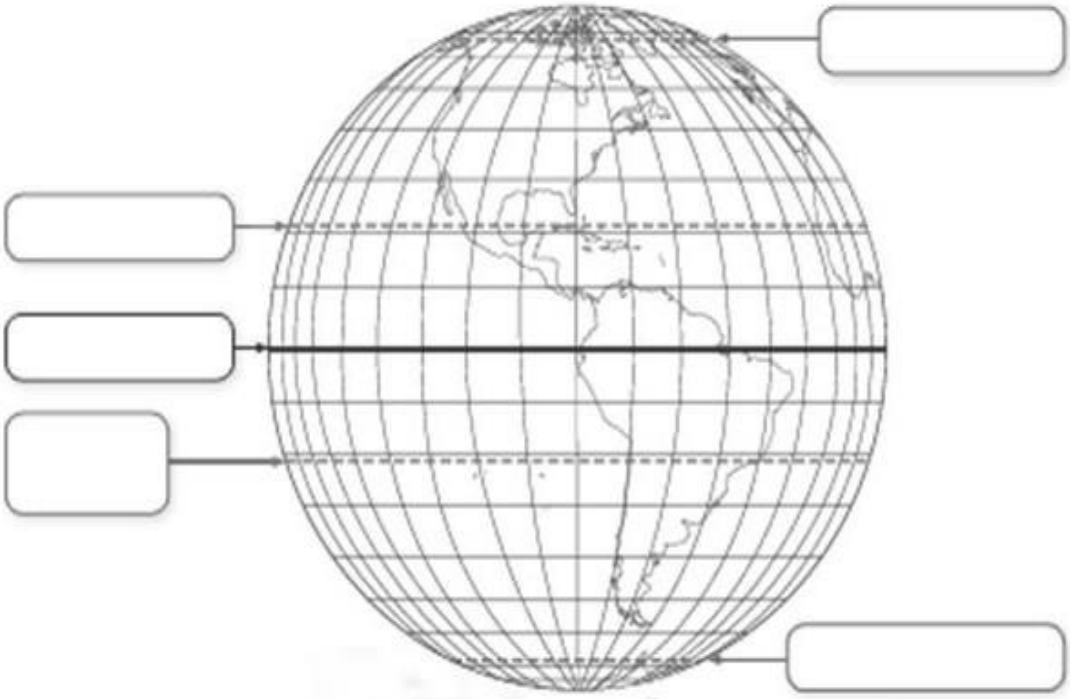
18.- Identifica y Remarca con los colores señalados las líneas imaginarias de la Tierra en el siguiente planisferio:

Azul: **Paralelos** Rojo: **Meridianos**




19.- **Observa atentamente la siguiente representación de la Tierra y completa el esquema con las líneas de referencia de la tierra que correspondan:**

Círculo Polar Ártico - Trópico de Cáncer - Línea del Ecuador - Trópico de Capricornio -Círculo Polar Antártico.



¡Ahora puedes profundizar tus aprendizajes en el texto escolar! Páginas: 20 a 31



Cualquier duda dirigirse al correo: academiamalcohistoria@gmail.com

Pauta de evaluación Guía de estudio

“Historia”

- **Guía N°:** 5 (Agosto 2021)
- **Curso:** 3° básico
- **Nombre Profesor(a):** María Inés Crespo Fuentes.
- **Nombre estudiante:** _____

NOTA

N° objetivo	N° página	N° pregunta	Indicadores/habilidades	Puntaje ideal	Puntaje obtenido
O.A 6	2	1- 2 3	Identifican los hemisferios	4	
	3	4 - 5-	Reconocen los continentes y océanos	2	
	4	6 - 7 - 8 9 - 10 - 11	Identifican representaciones las tierra	4 3	
	5	12 – 13 14 -	Identifican representaciones las tierra Identifican líneas imaginarias	2 6	
	6	15 16	Identifican los trópicos Identifican los continentes	1 7	
	7	17 18	Identifican los paralelos y meridianos	4 2	
	8	19	Identifican y ubican las líneas imaginarias	5	
			Puntaje Total:	40	
			Porcentaje de evaluación:	60%	