



ACADEMIA
MALLOCO
aprender creciendo

Guía de estudio N° 5

Asignatura: Historia

Docente: María Inés Crespo

Fecha: Agosto 2021

Curso: 1° año


NOMBRE ALUMNO(A):

Unidad 3

O.A 7: Conocer sobre la vida de hombres y mujeres que han contribuido a la sociedad chilena en diversos ámbitos; por ejemplo, los fundadores de las ciudades, los exploradores, las personas que han fundado o creado instituciones, las personas que se han destacado por su emprendimiento y su solidaridad, los deportistas, los científicos, los artistas y los grandes poetas, entre otros.

Personajes históricos de Chile

Nuestro país se ha convertido en cuna de innumerables artistas, pensadores, activistas, deportistas de reconocida importancia mundial, como el pianista **Claudio Arrau**, la folklorista **Violeta Parra** y Víctor **Jara**, la escultora **Marta Colvin**; El sacerdote **padre Alberto Hurtado**, gimnasta **Tomás González**, poetas **Gabriela Mistral**, **Pablo Neruda**, además de importantes figuras de nuestras patria, como **Bernardo O'Higgins**, **Arturo Prat**, **Lautaro**, **Caupolicán**, **Manuel Rodríguez**, etc.



Estos personajes juntos a innumerables otros más, que mantienen viva su tradición histórica, social y cultural de nuestra nación, lo que ha contribuido a desarrollar un reconocimiento a nivel mundial de un escenario poderoso de una variada manifestación por ejemplo en el arte como es la música, el teatro, las letras y la plástica. Una hornada que ha contribuido en aportar valores al mundo, a través de una inagotable creatividad, entrega, y talento de cada uno de ellos.

Bernardo O'Higgins Militar chileno, personaje relevante del proceso independentista de Chile, es considerado el **Padre de la Patria**. Fue el primer jefe de Estado de la República de Chile bajo el título de director supremo entre 1817 y 1823.



Arturo Prat es un gran marino chileno. Quien muere en la cubierta del monitor Huáscar en el Combate Naval de Iquique. Por sus valores, dedicación y auto sacrificio, es considerado máximo héroe naval.



Lautaro, joven guerrero mapuche que mantuvo en jaque el dominio español en nuestro país. Cuando pequeño fue paje de Pedro de Valdivia adquiriendo el conocimiento de las tácticas militares de estos, los que después utilizaría contra ellos.



José Miguel Carrera fue un político y militar chileno. Prócer de la emancipación (liberación) de Chile y destacado participante en las guerras de independencia, jefe de gobierno y primer general en jefe del Ejército. Considerado como el primer caudillo (guía o manda un grupo de personas) en la historia republicana (los representantes son elegidos por el pueblo) de este país, y uno de los primeros de América.



Manuel Rodríguez fue un patriota que realizó innumerables acciones en pos de la independencia de Chile, como, abogado, político, guerrillero y luego militar chileno, y es considerado como uno de los principales gestores y participes del proceso de independencia de Chile.




Gabriela Mistral poetisa chilena, escribía poemas para niños y recibió el premio Nobel de Literatura.



Pablo Neruda es un poeta chileno galardonado con el Premio Nacional de Literatura y el Premio Nobel de Literatura.



Tomás González destacado gimnasta Chileno el primer deportista en ganar una medalla para Chile en los Juegos Panamericanos y campeonatos mundiales.



Violeta Parra cantante, autora y compositora de música folclórica. También reconocida en el mundo por sus pinturas y bordados.



Padre Alberto Hurtado fue el fundador del Hogar de Cristo y ayudó a los más pobres.



1.- Identifica y une al personaje con su nombre de diferentes colores

		José Miguel Carrera
		Bernardo O'Higgins
		Lautaro
		Arturo Prat
		Manuel Rodríguez
		Tomás González
		Violeta Parra
		Gabriela Mistral

Puntos de referencia

Geografía Unidad 3

O.A 8 Reconocer que los mapas y planos son formas de representar lugares.

Los **puntos de referencia** son puntos fijos, tales como objetos, edificios o elementos de la naturaleza, con respecto a los cuales indicamos una posición.

1.- Encierra los siguientes objetos según la clave:

- el que está a la derecha del sofá.
- el que está delante del sofá.
- el que está detrás del sofá.
- el que está entre la lámpara y la planta.



2.- Marca con **X** si es correcto según se indica.

- Una pelota **arriba** del banco. _____
- Una flor **entre** la niña y el árbol. _____
- Una bicicleta **entre** el banco y la niña. _____
- Un gato **abajo** del banco. _____



Planos

Los planos son una representación de un **lugar pequeño** como una sala, una casa, una habitación, un barrio, pueblo o ciudad entre otros. **Su forma es plana**, por eso se llama plano y nos sirven para **ubicarnos**.

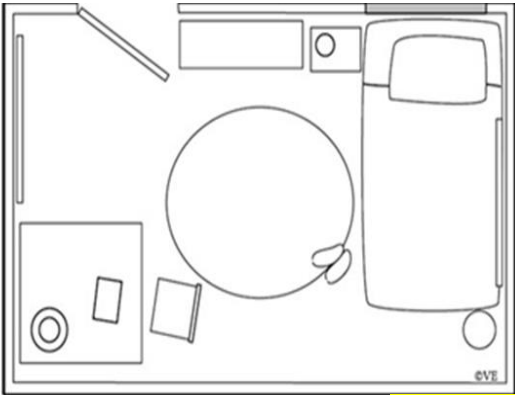
Cuando mires un plano o lo dibujes, los objetos varían su forma, ya que están **mirados desde arriba** y no desde el frente.

Es por eso que los planos tienen **Simbología**, la que nos permite entenderlos e interpretarlos, así sabemos que dibujo representa cada objeto.

Ahora mira el ejemplo que está en la página siguiente.



Mirado de frente



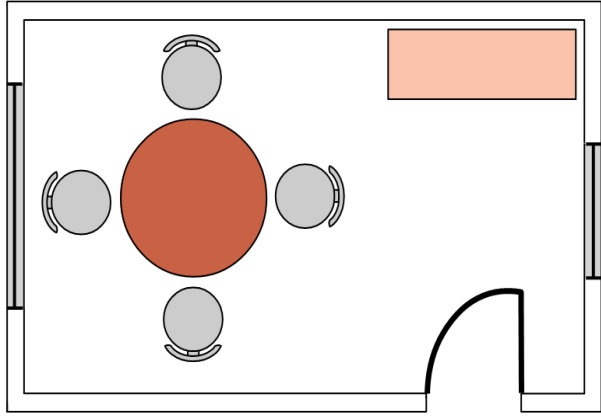
Mirado desde arriba



3.- De las imágenes anteriores marca con una X ¿Cuál es un plano?

Observa el siguiente plano del comedor de una casa. Luego responde las preguntas

Plano



Simbología

	
	puerta
	ventana
	silla
	mesa
	estante

4.- ¿Cuántos son los símbolos que se utilizan en este plano?

- a.- 4
- b.- 5
- c.- 6

5.- ¿Cuántas personas pueden ocupar el comedor sentados para almorzar?

- a.- 4
- b.- 3
- c.- 5

6.- ¿Dónde está ubicada la mesa del comedor?

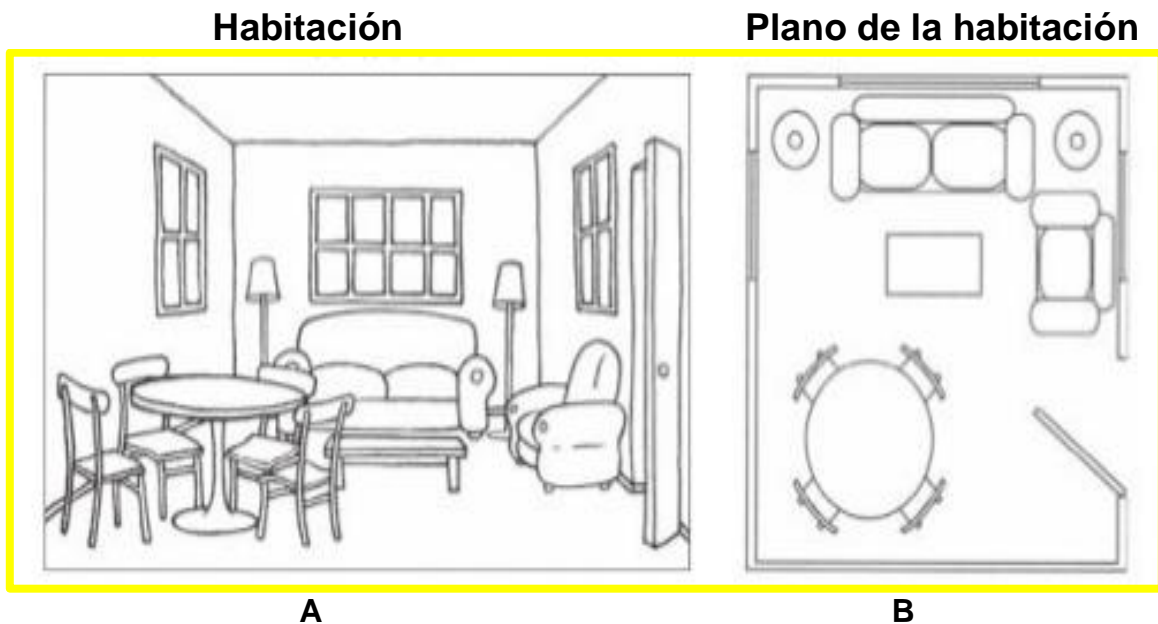
- a) al centro de la pieza
- b) al costado izquierdo
- c) al costado derecho

Planos

Los objetos que se representan en un plano varían un poco de cómo los vemos normalmente, ya que estamos acostumbrados a ver los objetos de frente, pero mirados desde arriba cambian y pierden el volumen

7.- Pinta **cada mueble de la habitación** de un color diferente.

8.- Luego **en el plano**, pinta cada objeto con el mismo color usado anteriormente.



Responde:


9.- Los planos son

- a) Lugares mirados de frente
- b) Lugares mirados desde arriba
- c) Lugares mirados de lado

10.- ¿Qué representa el plano?

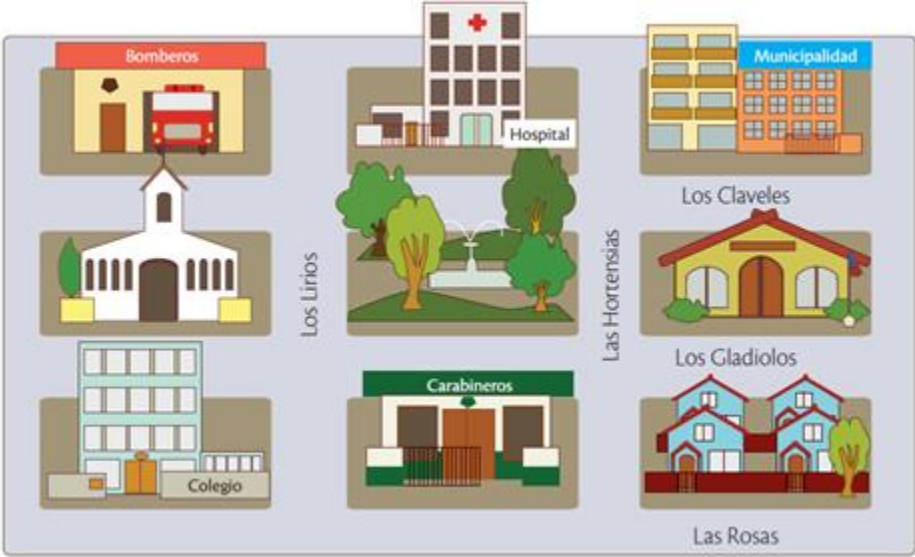
- a) Lugares grandes
- b) Lugares pequeños
- c) Lugares solamente de habitaciones

11.- Dibuja un plano que represente tu dormitorio y su simbología.



Interpretar planos usando puntos de referencia y simbología

Observa el siguiente plano. Luego, responde las preguntas.




12.- Marca con una **✓** las afirmaciones correctas y con una **✗** las incorrectas, **considerando que te encuentras en la plaza, mirando hacia el hospital.**

a) La iglesia está a tu izquierda.	
b) Los Carabineros están delante de ti.	
c) Los bomberos están a la derecha del hospital.	

13.- Escribe el **significado** de los siguientes símbolos del plano

- ❖ ¡Ahora puedes profundizar tus aprendizajes con en el texto escolar desde la página 72 a 97 y realiza las actividades!



Cualquier duda dirigirse al correo: academiamalcohistoria@gmail.com

Pauta de evaluación Guía de estudio
“Historia y Geografía”

- **Guía N°: 5 (Agosto 2021)**
- **Curso: 1° básico**
- **Nombre Profesor(a): María Inés Crespo Fuentes.**
- **Nombre estudiante: _____**

NOTA

N° objetivo	N° página	N° pregunta	Indicadores/habilidades	Puntaje ideal	Puntaje obtenido
O.A 7	5	1	Identifican los personajes históricos de Chile	8	
O.A 8	6	1	Ubicación relativa	4	
	7	2	Ubicación relativa	2	
	8	3 - 4 5 - 6	Reconocen un plano Reconocen simbología en un plano	4	
	9	7 - 8 9 - 10	Ubicación relativa Reconocen y realizan la simbología en un plano Representa la simbología del plano	6 2	
	10	11	Representan un plano y su simbología	3	
	11	12 13	Ubicación relativa Identifican simbología en un plano	3 4	
			Puntaje Total:	36	
			Porcentaje de evaluación:	60%	