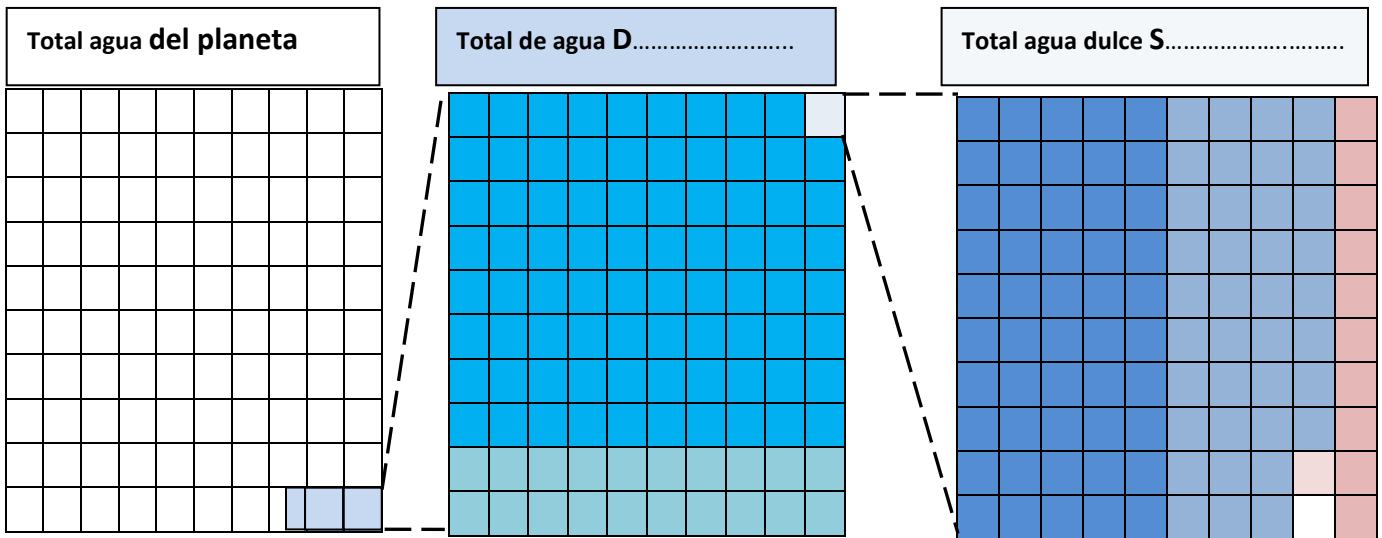


**NOMBRE ALUMNO(A):**

**Guía N°6**

**O.A. 12:** Describir la distribución del agua dulce y salada en la Tierra, comparar sus volúmenes reconociendo la escasez de agua dulce.

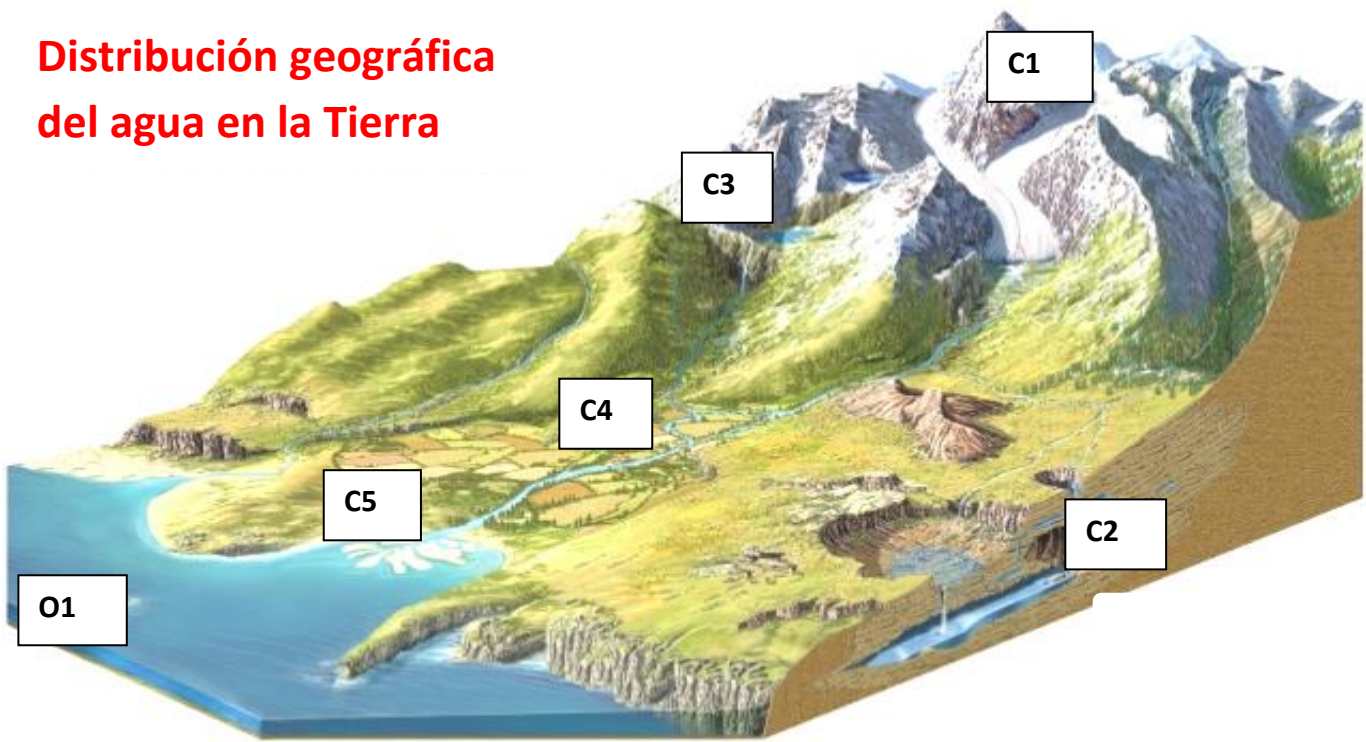
**I.- COMPLETA EL SIGUIENTE ESQUEMA CON LA DISTRIBUCIÓN DE AGUA EN LA TIERRA.**



	% .....	Salada		% .....	Glaciares y Nieve		% .....	Lagos
	% .....	<b>Dulce</b>		% .....	Subterránea		% .....	Humedad
				% .....	<b>Superficial</b>		% .....	Atmósfera
							% .....	Ríos
							% .....	Seres vivos

Geográficamente las aguas en nuestro planeta son agrupadas en: **aguas Continentales**, mayormente agua dulce, y **aguas Oceánicas**, conformadas principalmente por océanos y mares.

## Distribución geográfica del agua en la Tierra

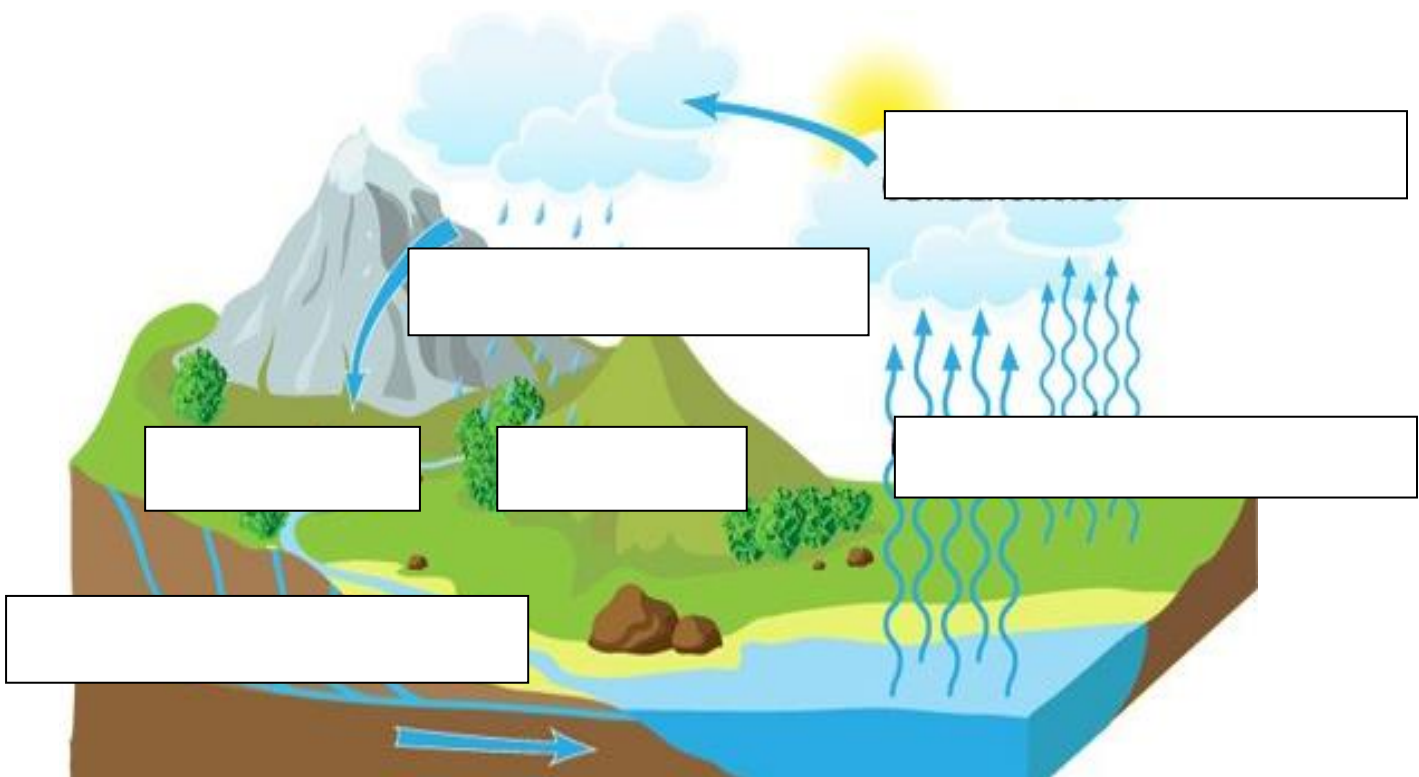


DISRIBUCIÓN		DESCRIPCIÓN
C1)		Representan una fracción importante de agua dulce en el planeta. Esto se da en las altas cumbres o en lugares con.....
C2)		Se producen <b>por la infiltración</b> del agua superficial a través del suelo. Estas aguas recorren el interior de los .....
C3)		Son grandes extensiones de ....., generalmente son de agua dulce y se forman por diversas maneras: por deshielos, estancamientos de ríos, por la subida o retirada de las aguas del mar.
C4)		Corresponden a cuerpos de .....( <b>escorrentías</b> ) por diferencias de alturas en el terreno, generalmente se forman por deshielos. El cauce de un río puede desembocar en el mar, en un lago u otro río.
C5)		Donde <b>confluyen (juntan)</b> .....
(O1)		Es el gran volumen de agua .....( <b>97,5 % de la superficie del Planeta</b> ). Para efectos prácticos fue dividido en <b>tres océanos mayores</b> , el....., el Atlántico y el Indico, y <b>dos océanos menores</b> que son el Ártico y el .....

**ESCRIBE EL NOMBRE DE LAS MASAS DE AGUA QUE MUESTRAN LAS IMÁGENES Y DESCRIBE UNA CARACTERÍSTICA QUE LAS IDENTIFIQUE**

Masas de agua	Nombres	Característica (breve)
		
		
		

**COMPLETA EL ESQUEMA DEL CICLO DEL AGUA ANOTANDO EN LOS RECUADROS LOS PROCESOS SEGÚN CORRESPONDAN.**



Escorrentía --- Evaporación --- Transpiración ---  
 Infiltración --- Condensación --- Precipitación

**MENCIONA FORMAS DE CONTAMINACIÓN DE LA HIDROSFERA**

- A.- Contaminación 1.....
- 2.....
- 3.....

**MENCIONA RECURSOS QUE NOS PROVEE LA HIDROSFERA**

- B.- Recursos 1.....
- 2.....
- 3.....

