

Nombre alumno (a):

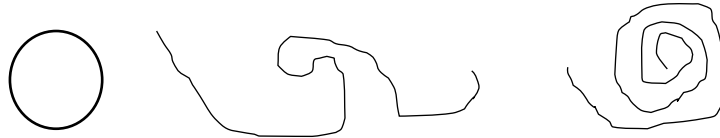
OA15

Identificar y dibujar líneas rectas y curvas.

línea recta



línea curva



1. Encierra todas las líneas curvas.



2. Dibuja las líneas indicadas en cada caso, puedes utilizar regla.

a. Líneas curvas.

b. Líneas rectas.









3. Pinta en cada palabra con rojo las letras formadas solo por líneas rectas y con azul, las letras formadas solo por líneas curvas.

a. MONO

b. OSO

c. PATO

4. Remarca de color rojo las líneas rectas y de color azul las líneas curvas.



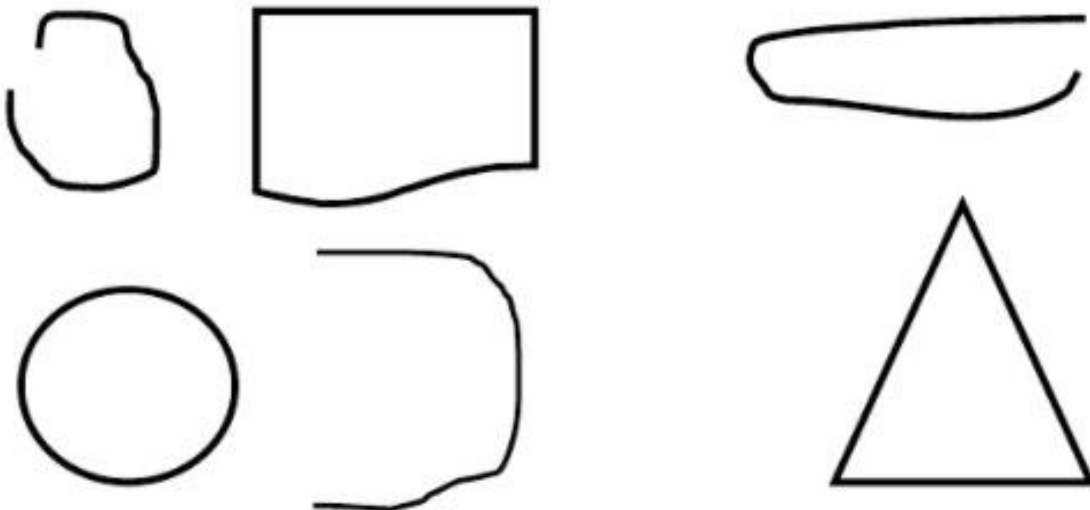
5. Une cada figura con su nombre respectivo



Línea recta

Línea curva

6. Marca con una X las líneas abiertas

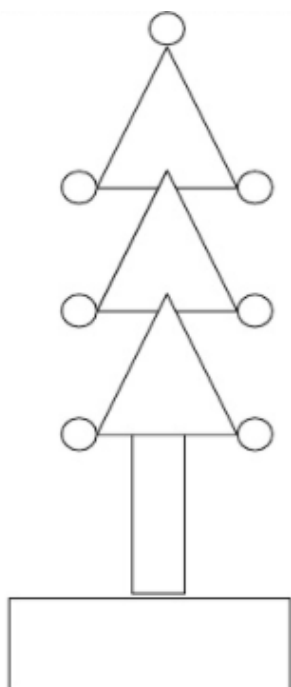


7. Dibuja las líneas en el recuadro correspondiente



	Líneas cerradas	Líneas abiertas
Solo líneas rectas		
Sólo líneas curvas		

8. En la siguiente figura pinta de verde las formas hechas con líneas curvas y azules las hechas con líneas rectas.



OA16

Usar unidades no estandarizadas de tiempo para comparar la duración de eventos cotidianos.

Actividades que se desarrollan en Mañana, tarde, noche.

Actividad de Mayor o menor tiempo

9. Observe las siguientes acciones y determine en cuál de ellas un niño demora más tiempo en realizarla. Marque con un en el espacio dado.



10. Marque con una X cuál de las siguientes acciones corresponden al desarrollo de un día. (pensando en la mañana, luego la tarde y al final la noche)



11. Observe las siguientes acciones y luego marque con en cuál ocupa un mayor tiempo en realizarla.







12. En la siguiente imagen encierre la acción que demora menos tiempo en hacer un niño.



13. Encierre la acción que demora más tiempo en realizar un niño según la siguiente imagen.




14. Encierra con un círculo la actividad en la que te demoras más tiempo



15. Encierra en un círculo la actividad en la que te demoras menos tiempo.



16. Encierra en un círculo la actividad en la que demoras más tiempo



17. Encierra en un círculo la actividad en la que demoras menos tiempo



Nombre alumno (a): SOLUCIONARIO

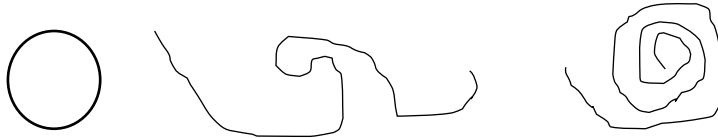
OA15

Identificar y dibujar líneas rectas y curvas.

línea recta



línea curva



1. Encierra todas las líneas curvas.

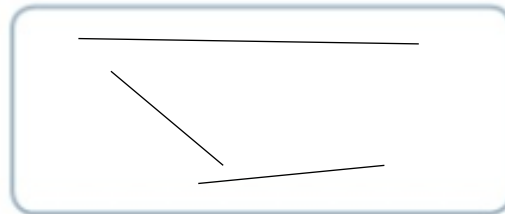


2. Dibuja las líneas indicadas en cada caso, puedes utilizar regla.

a. Líneas curvas.










b. Líneas rectas.



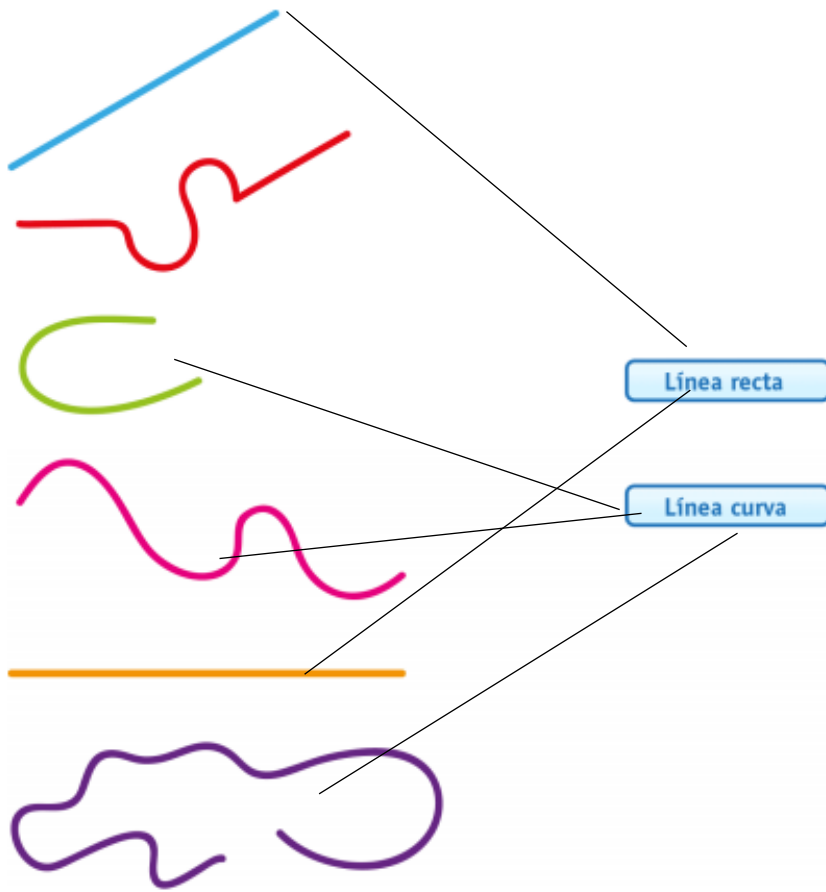
3. Pinta en cada palabra con rojo las letras formadas solo por líneas rectas y con azul, las letras formadas solo por líneas curvas.



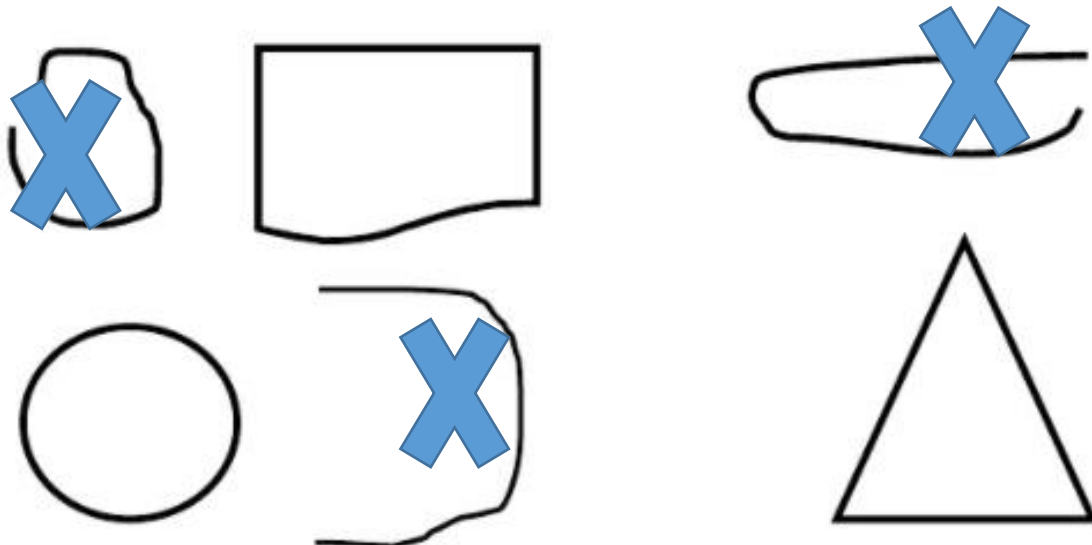
4. Remarca de color rojo las líneas rectas y de color azul las líneas curvas.



5. Une cada figura con su nombre respectivo


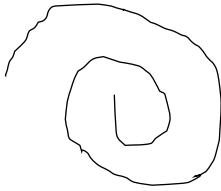
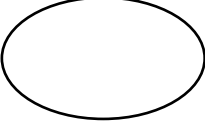
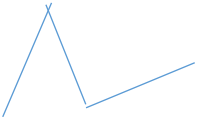


6. Marca con una X las líneas abiertas

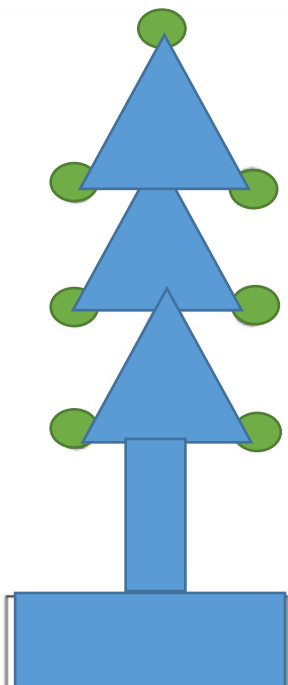


7. Dibuja las líneas en el recuadro correspondiente



	Líneas cerradas	Líneas abiertas
Solo líneas rectas		
Sólo líneas curvas		

8. En la siguiente figura pinta de verde las formas hechas con líneas curvas y azules las hechas con líneas rectas.



OA16

Usar unidades no estandarizadas de tiempo para comparar la duración de eventos cotidianos.

Actividades que se desarrollan en Mañana, tarde, noche.

Actividad de Mayor o menor tiempo

9. Observe las siguientes acciones y determine en cuál de ellas un niño demora más tiempo en realizarla. Marque con un en el espacio dado.



10. Marque con una X cuál de las siguientes acciones corresponden al desarrollo de un día. (pensando en la mañana, luego la tarde y al final la noche)




11. Observe las siguientes acciones y luego marque con en cuál ocupa un mayor tiempo en realizarla.



12. En la siguiente imagen encierre la acción que demora menos tiempo en hacer un niño.



13. Encierre la acción que demora más tiempo en realizar un niño según la siguiente imagen.




14. Encierra con un círculo la actividad en la que te demoras más tiempo



15. Encierra en un círculo la actividad en la que te demoras menos tiempo.



16. Encierra en un círculo la actividad en la que demoras más tiempo



17. Encierra en un círculo la actividad en la que demoras menos tiempo

