



Guía de estudio N° 6

Asignatura: Historia

Docente: María Inés Crespo

FECHA: Septiembre

CURSO: 2° año

NOMBRE ALUMNO(A):

Las Zonas naturales de Chile.

Chile se puede dividir en **tres grandes zonas naturales**:

Zona **Norte**, Zona **Central** y Zona **Sur**.

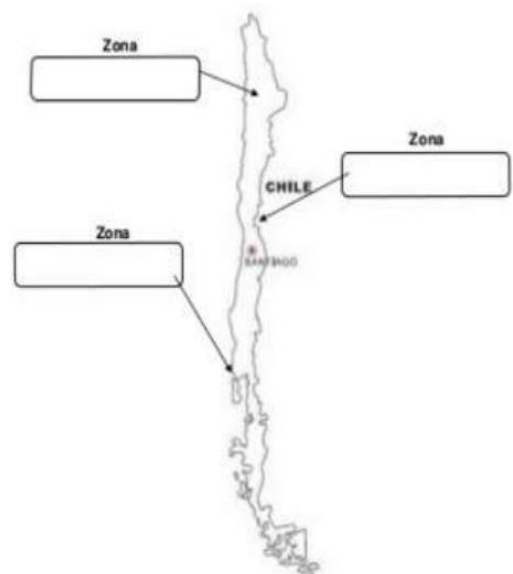
En la **Zona Norte**, llueve muy poco, por lo que la vegetación y la fauna son escasas.

En esta zona crecen plantas adaptadas a vivir con muy poco agua, como el cactus.

En la **Zona Central**, llueve en otoño e invierno y el verano y la primavera son secos. Las plantas que crecen en esta zona deben resistir la sequía de los meses en que no llueve, como el boldo y el espino.

En la **Zona Sur**, llueve todo el año, por lo que pueden crecer grandes árboles, como la araucaria y el alerce, enredaderas como el copihue y diversos tipos de hierbas y helechos.

1.- Escribe el nombre de cada zona natural.



Zonas Naturales de Chile

Chile es un país que se caracteriza por tener una variedad de paisajes a lo largo del territorio ya que atraviesa todas las zonas climáticas. Por este motivo presenta diferentes tipos de climas, vegetación y fauna, además encontramos distintas formas de vida según se viva en la zona norte, zona central o zona sur del país.

El relieve corresponde a las formas que observamos en la superficie de la Tierra, por ejemplo las montañas, los valles, islas, ríos, etc.

El clima se refiere a cómo son las temperaturas y las lluvias en una zona durante un período de tiempo.

La vegetación está formada por las plantas que existen en un lugar y que se relacionan con el clima o el relieve.

El territorio chileno se ha **subdividido en cinco zonas naturales:**

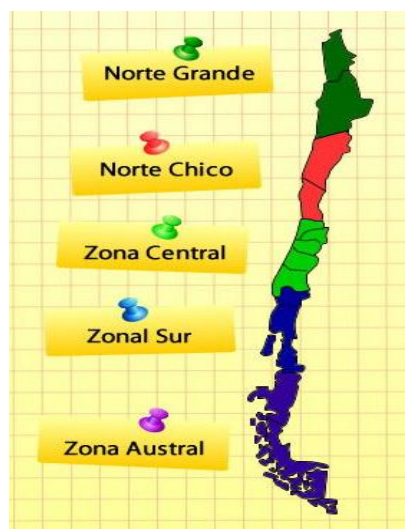
→ **Norte Grande**

→ **Norte Chico**

→ **Zona Central**

→ **Zona Sur**

→ **Zona Austral**



Norte Grande

Se extiende desde el límite con Perú hasta el río Copiapó e incluye las regiones de Arica y Parinacota, Tarapacá y Antofagasta.

El clima es de tipo **desértico**.

Esta zona presenta

temperaturas muy altas y

escasas precipitaciones. También es propio de esta zona la presencia de

neblinas en la costa y en algunas quebradas, la que recibe el nombre

de **camanchaca**. **La vegetación** es escasa debido a la **aridez del desierto**.

Entre las especies más comunes encontramos los cactus, tamarugos, quiscos, algarrobos y tunas.



Norte Chico

Se extiende desde el río Copiapó hasta el río Aconcagua e incluye las regiones de Atacama y Coquimbo.

Posee un **clima semihúmedo**

en la costa y semiárido hacia

el interior también llamado

estepárico con precipitaciones irregulares en invierno. Cada 5 a 7 años, en

las regiones de Atacama y Coquimbo aumentan en forma considerable las precipitaciones, lo que provoca que los suelos áridos, ahora húmedos por la lluvia, hagan florecer las semillas y bulbos enterrados en ellos, surgiendo una cubierta herbácea de múltiples colores, es conocido como desierto florido.

El relieve se presenta en forma de terrazas en la planicie litoral, con la cordillera de la costa erosionada. Encontramos la presencia de los valles transversales que reemplazan la depresión intermedia. La Cordillera de los Andes presenta alturas de 4.000 m.



Zona Central

Se extiende desde el río Aconcagua hasta el río Biobío e incluye las regiones de Valparaíso, Metropolitana, Del Libertador Bernardo O'Higgins, del Maule, y la región del Biobío.

En esta zona se presentan **climas templados cálidos (mediterráneos)**, que se caracterizan por sus temperaturas moderadas y precipitaciones que se concentran en los inviernos, las que aumentan hacia la zona sur.

En la costa el clima templado se presenta con abundante nubosidad y con temperaturas más parejas que en el interior, debido a la influencia del mar.

En cuanto al relieve siempre a **nuestra izquierda se presenta la Cordillera de los Andes** con sus cumbres nevadas. Esta se presenta **algo más baja que en el Norte**, pero siguen sobresaliendo los conos de los volcanes.

Desde Santiago podemos observar los volcanes de San José y Maipo.

La Cordillera de la Costa va perdiendo su altura. La depresión intermedia recibe en esta zona el nombre de Valle Longitudinal. Se presenta baja e interrumpida por numerosos ríos. Es la mejor zona agrícola del país. De ella se extrae gran cantidad de alimentos: trigo, remolacha y maíz.

Los principales ríos de la zona son: Aconcagua, Maipo, Rapel, Maule y Biobío.

Salto del Laja



Zona Sur

Se extiende desde el río Biobío hasta el golfo del Corcovado, al sur de la Isla Grande de Chiloé e incluye las regiones de La Araucanía, de Los Ríos y de Los Lagos.

El clima es de tipo **templado lluvioso**.

Se caracteriza por cielos cubiertos de nubes durante gran parte

del año, solo entre diciembre y febrero se dejan sentir con mayor intensidad las características del verano: cielos despejados, menor nivel de precipitaciones que suelen ser abundantes el resto del año.

Puerto Varas



Zona Austral

Se extiende desde el golfo Del Corcovado hasta el Territorio Antártico chileno e incluye las regiones de Aysén del General Carlos Ibáñez del Campo y la Antártica chilena. Predominan los **climas polar, templados fríos y lluviosos.**



Torres del Paine



El choque de masas de aire frío que vienen de la Antártica con masas de aire más cálido que viene de la zona templada, explican las abundantes precipitaciones y los cielos casi permanentemente nublados, que caracterizan gran parte de la región. Lo que es común a toda esta zona es la continua presencia de vientos fuertes y fríos que generan una sensación térmica más gélida que la que registran los termómetros.

La **característica del relieve** es la desaparición de la planicie costera y la depresión intermedia. Hacia el sur solo vemos rastros de ella en los canales. Aquí debido a lo desmembrado del territorio, característica que puedes observar en un mapa, se debe continuar los viajes en barco.

Características de algunos paisajes de Chile según su ubicación geográfica

Chile es un territorio largo y angosto que atraviesa todas las zonas climáticas, por este motivo encontramos una diversidad de paisajes que nos permiten formar tres grandes zonas:

Zona Norte de nuestro país, la mayor parte del año hace mucho calor y llueve poco, se caracteriza por sus paisajes áridos, donde se impone un inmenso desierto rodeado de cerros de colores. El clima es desértico por lo que hay muy pocas plantas y animales. Encontramos cactus, tamarugos y llaretas, llamas, guanacos, vizcachas, vicuñas y chinchillas.



Parque nacional Lauca

En el Norte se encuentran grandes yacimientos es una zona de mineros y pescadores.

El sector costero de la zona norte de nuestro país se encuentra afectado por un fenómeno climático conocido localmente con el nombre de "**Camanchaca**".

La Camanchaca es una nube a ras de suelo, que se compone de muy pequeñas gotas de agua, que por ser tan pequeñas no tienen peso para caer al suelo, quedando suspendidas en el aire, siendo desplazadas por el viento. Esta se produce debido a **la absorción de calor solar que realiza el mar durante el día, y durante la liberación de calor en la noche y la madrugada**. Así la camanchaca se presenta como una neblina espesa y dinámica, que se moviliza a ras del suelo.



Camanchaca

Zona Central: En esta zona se distinguen claramente las cuatro estaciones del año. En verano el clima es cálido y seco; en invierno es frío y lluvioso. Su clima es templado, el que va presentando diferencias a medida que avanzamos hacia el Sur. Aquí encontramos una mayor cantidad de ríos, y el verde en el paisaje predomina. Esta región consta de tres zonas geográficas: Cordillera de la costa, depresión intermedia y cordillera de los andes.

La cordillera de la Costa es alta, aunque va perdiendo altura hacia el sur. Las costas son amplias. En el valle de la Zona Central se desarrolla la agricultura y se ubican ciudades como Santiago, Rancagua y Talca.

En la Zona Central de Chile, la cordillera de los Andes es muy alta y algunas de sus cumbres son volcanes.

Hay gran variedad de plantas como el quillay, el litre, el boldo y la palma chilena y de animales como la loica, el zorro culpeo, el coipo, el águila, la codorniz, el puma y el pudú.

Las principales actividades económicas de esta zona son la agricultura, el comercio y la pesca.

Zona Sur: al comienzo de esta zona las temperaturas aún son moderadas; avanzando hacia el Sur, las temperaturas descienden y las lluvias son intensas, caen durante casi todo el año. **La vegetación** es más exuberante y permanece siempre verde. Los bosques, lagos y volcanes aparecen en el paisaje. Existen ríos, islas, archipiélagos, canales y fiordos, que son valles que se formaron por el paso de grandes masas de hielo. Encontramos una **gran variedad de árboles** que forman hermosos bosques donde crecen el alerce, el roble, la araucaria, el coigüe y el mañío. También hay **muchos animales** como el huemul, el puma y el loro trichahue. Las actividades productivas que se desarrollan en esta zona son: la silvicultura (cultivo de los bosques o montes) y la ganadería.

Zona Austral la Antártica, paisaje glacial que nos asombra como un gran desierto blanco de hielo. **En esta zona no llueve**, pero precipita en forma de nieve. **La fauna** marina es abundante y variada, viven animales como el pingüino, la foca y los elefantes marinos. Encontramos algunas **especies vegetales** como son los musgos y el clavel antártico.

2.- Responde las siguientes preguntas.

- a) Yo vivo en la zona _____ de Chile.
- b) La Capital de Chile se encuentra en la Zona _____
- c) Chile tiene _____ zonas naturales.
- d) El clima polar solo se encuentra en la zona _____

**3.- Une cada planta con la zona en que crees que puede vivir.
Zona Norte, Zona Central, Zona Sur.**

Zona Norte



Zona Central



Zona Sur




4.- Encuentra en esta sopa de letras, el nombre de tres animales y tres plantas características de Chile.

W	E	G	L	L	A	M	A	S	F
E	B	O	L	D	O	J	M	N	G
B	A	C	A	C	T	U	S	N	I
V	I	C	U	Ñ	A	B	M	J	K
B	A	T	U	U	C	H	R	M	A
G	R	A	N	A	C	O	V	B	Q
A	R	A	U	C	A	R	I	A	M
Q	G	U	A	N	A	C	O	X	V

5.- Observa esta imagen y escribe el nombre que corresponde.

Volcán río cordillera



6.- Coloca V, si es verdadero o F, si es falso.

1		El norte de Chile, se clasifican dos Zonas: Norte Grande y Norte Chico
2		El desierto de Atacama, es considerado el más seco del mundo
3		En la Zona Norte, encontramos la ciudad de Valparaíso
4		En la Zona Norte, llueve mucho, todo el año
5		La Fauna (animales), característicos de la Zona Norte son: el león y el elefante
6		En la Zona Norte, se desarrolla la minería, donde se extraen el cobre.
7		Los paisajes de Chile son variados por 3 elementos: clima, relieve y vegetación

7.- Une con una línea la zona natural con el clima que le corresponde:

ZONA
NORTE

LLUVIOSO

ZONA
CENTRAL

ÁRIDO

ZONA
SUR

TEMPERATURAS
MODERADAS

Vocabulario geográfico



Archipiélago: Conjunto de islas.



Desierto: Es una zona de la tierra que es muy árida, es decir casi nunca llueve.



Oasis: Es vida en medio del desierto, hay agua.



Bahía: Entrada del mar a la tierra.



Puerto: Lugar donde llegan, atracan y zarpan los barcos.



Isla: Porción o trozo de tierra que está rodeada de agua.



Farellón costero: Serie de acantilados a lo largo del litoral.



Península: Trozo de tierra unido al continente que sale al mar.



Valle: Zona de tierra plana que está atravesada por río.



Llanura: Zona de tierra plana muy extensa.



Costa: División entre el mar y la tierra.



Río: Extensión de agua, generalmente dulce, rodeada de tierra.



Cordillera: Cadena de montañas enlazadas entre sí.



Planicie litoral: Se extiende entre el mar y la cordillera costera



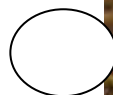
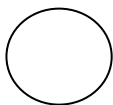
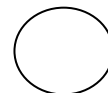
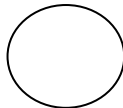

Volcán: Formación de la superficie terrestre por donde sale materia del interior a elevadas temperaturas



Altiplano: Meseta de mucha extensión y a gran altitud

8.- Observa la imagen y escribe el número con la definición que corresponde.

- | |
|--|
| <ol style="list-style-type: none"> 1.-Mamífero característico de la zona norte 2.- Altiplano 3.- Farellón costero 4.- Planicie Litoral 5.- Cordillera |
|--|



9.- Marca con una X la alternativa correcta

<p>1. Los paisajes de Chile son variados por estos tres elementos:</p> <p>a) clima, lluvia y vegetación b) clima, relieve y vegetación c) viento, relieve y vegetación</p>	<p>2. La lluvia, el calor y la sequía tienen relación con:</p> <p>a) clima b) vegetación c) relieve</p>
<p>3. La vegetación es:</p> <p>a) La arena y el mar b) Árboles y plantas. c) Bosques y ríos</p>	<p>4. El relieve son las formas que posee la corteza terrestre, a esto nos referimos:</p> <p>a) Cordillera, valles y lagos b) Cordillera y volcanes c) Volcanes, cordillera, lagos, valles, costas e islas.</p>
<p>5. Las ciudades de la zona norte, son:</p> <p>a) San Felipe, Valparaíso, Santa María b) Cauquenes, Chañaral, Concepción c) Arica, Iquique, Antofagasta, Serena</p>	<p>6. En la Zona Norte, se encuentra el río más largo de Chile:</p> <p>a) Río Aconcagua b) Río Loa c) Río Mapocho</p>
<p>7. El desierto de Atacama es considerado:</p> <p>a) El más grande del mundo b) El menos hermoso c) El más seco del mundo</p>	<p>8. El Norte de Chile, se clasifica en dos zonas.</p> <p>a) Norte Verde – Cordillera de Los Andes b) Norte Chico - Altiplano c) Norte Grande – Norte Chico</p>

10.- Responde las siguientes preguntas.

a) ¿Cómo es el clima en la “Zona Norte”?

.....

b) ¿Cuándo hablamos de Fauna, a qué, nos referimos?

.....

c) Los cactus, ¿De qué Zona, son característicos?

.....

d) Escribe el nombre de 2 animales de la zona sur.

.....

Marca con una X la respuesta correcta:

11.- La flora y la fauna de la zona norte es escasa, debido a:

- a) Las abundantes lluvias
- b) La sequedad del suelo
- c) Las constantes nevadas

12.- La Chinchilla, la vicuña y el guanaco forman parte de la fauna de:

- a) La zona Norte
- b) La zona Sur.
- c) La zona Central.

13.- La flora en la zona Norte, está formada por:

- a) Tamarugo- cactus –llareta.
- b) El musgo- el clavel antártico.
- c) La palma chilena-el peumo-lingue.

14.- En la zona Central existen una variedad de plantas como:

- a) El boldo- la palma chilena – el litre.
- b) La araucaria- el canelo –el alerce.
- c) El cactus- la llareta- el tamarugo.

15.- La fauna de la zona Central la forman numerosos animales entre los que se encuentran:

- a) El coipo- la loica-el pudú
- b) La Chinchilla-la vicuña-el flamenco.
- c) El huemul- la ranita de Darwin-el puma.

16.- En la zona Sur encontramos una variedad de flora en la que se destacan:

- a) La llareta-la ñañauca-el cactus.
- b) El musgo –el clavel antártico
- c) La araucaria-el alerce –el roble.

17.- Dentro de la fauna de la zona Austral tenemos a:

- a) El puma –el zorro-el chinge
- b) El pingüino-la foca- el elefante marino.
- c) El huemul-el pudú-la ranita de Darwin.