

**NOMBRE ALUMNO(A):**

### Unidad 3: Geografía

O.A 6: Leer y dibujar planos simples de su entorno, utilizando puntos de referencia, categorías de posición relativa y simbología pictórica.

O.A 7: Ubicar Chile, Santiago, la propia región y su capital en el globo Terráqueo o en mapas, y describir la ubicación relativa de países limítrofes y de otros países de América del Sur, utilizando los puntos cardinales.

#### Identificar Chile en Mapas y Globo Terráqueo.

Los **mapas** son **representaciones planas** de la superficie de la Tierra completa o partes de ella. Un mapa que presenta completa la superficie de la Tierra, se llama **planisferio**.

**Observa el siguiente planisferio y pinta Chile.**



#### **¿Qué es un plano?**

Llamamos **plano** a la representación reducida o a escala de un **lugar mirado desde arriba**, como si lo vieras de un avión.

En un plano se utilizan dibujos simples y símbolos para ubicar cosas en un lugar.

Usamos los planos para ubicarnos en lugares, como una ciudad, un barrio, e incluso un colegio o una casa.

## Plano



**Comenta :**

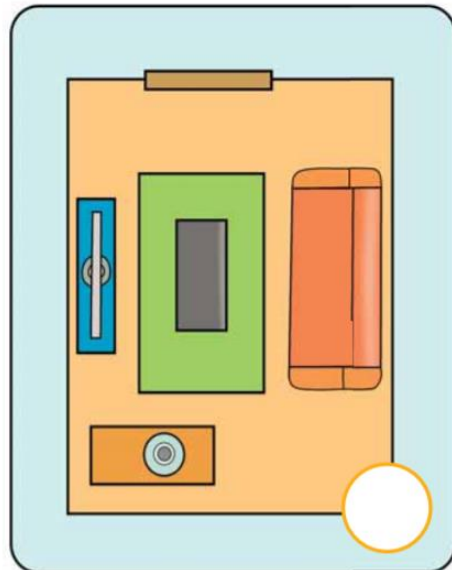
1.- Que representa la imagen anterior \_\_\_\_\_

2.- A qué lugar corresponde este plano y ¿cómo lo supiste?

---

---

**Observa** las imágenes y luego realiza las actividades



Marca con una **X** la imagen que corresponda a un plano

a) ¿Qué objetos de la habitación **no están** representados en el plano?

---

---

b) **Dibuja** en el plano los objetos que faltan

## Los puntos cardinales.

Estos puntos cardinales son: el **este**, **oeste**, **norte** y **sur**.

### Este y oeste:

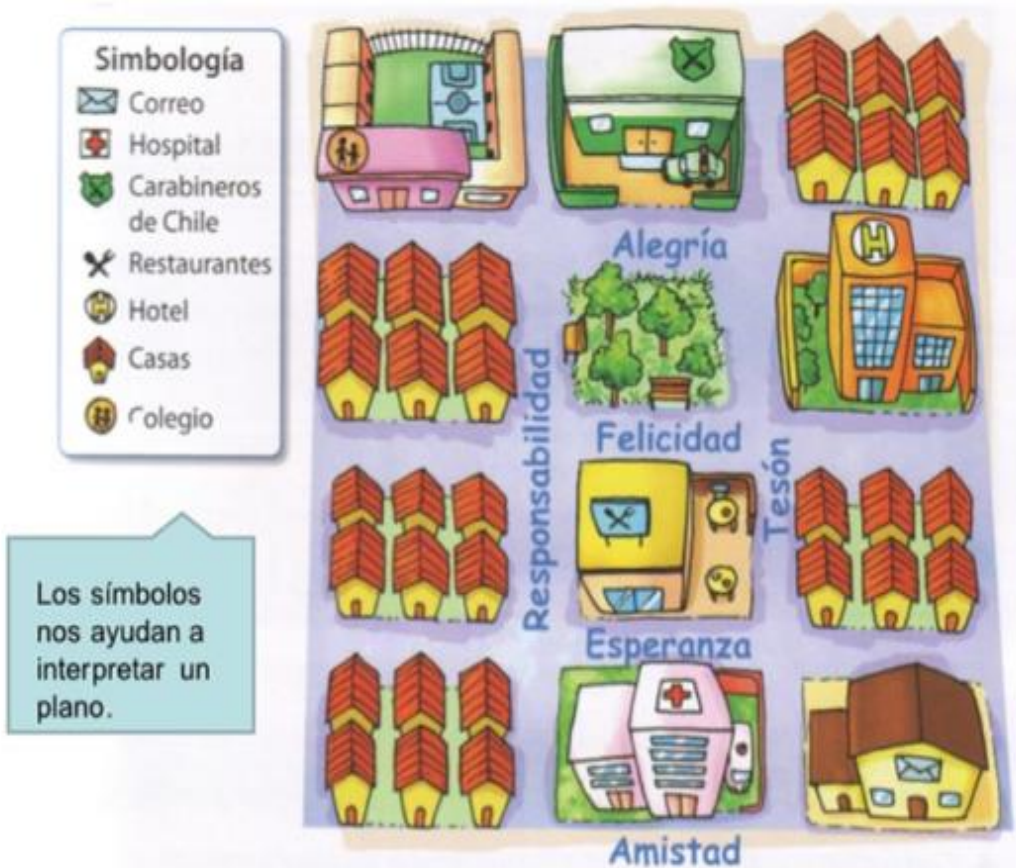
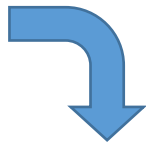
El **este** o también llamado **oriente** es por donde sale el sol. En el sentido contrario al este se encuentra el **oeste** u **occidente**, que es por donde se oculta el sol.

### Norte y sur:

El **norte** es el lugar que esta frente a nosotros cuando tenemos el este a la derecha, contrario al norte está el **sur**.

## ¿Qué es la simbología?

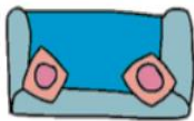
Miremos el ejemplo:



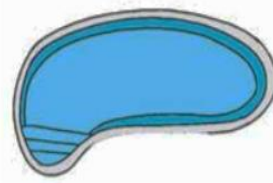
- Observa el siguiente plano y luego completa la simbología escribiendo el significado de los símbolos (sus nombres)



**Simbología:**



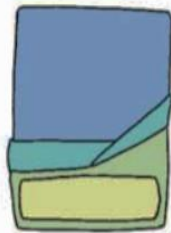
\_\_\_\_\_



\_\_\_\_\_



\_\_\_\_\_



\_\_\_\_\_



\_\_\_\_\_

Responde:

**a) ¿Por qué es importante que los planos tengan simbología?**

---



---

**b) ¿Qué aprendiste en esta oportunidad?**


---



---

## ¿Qué son los puntos cardinales?

Recuerda:



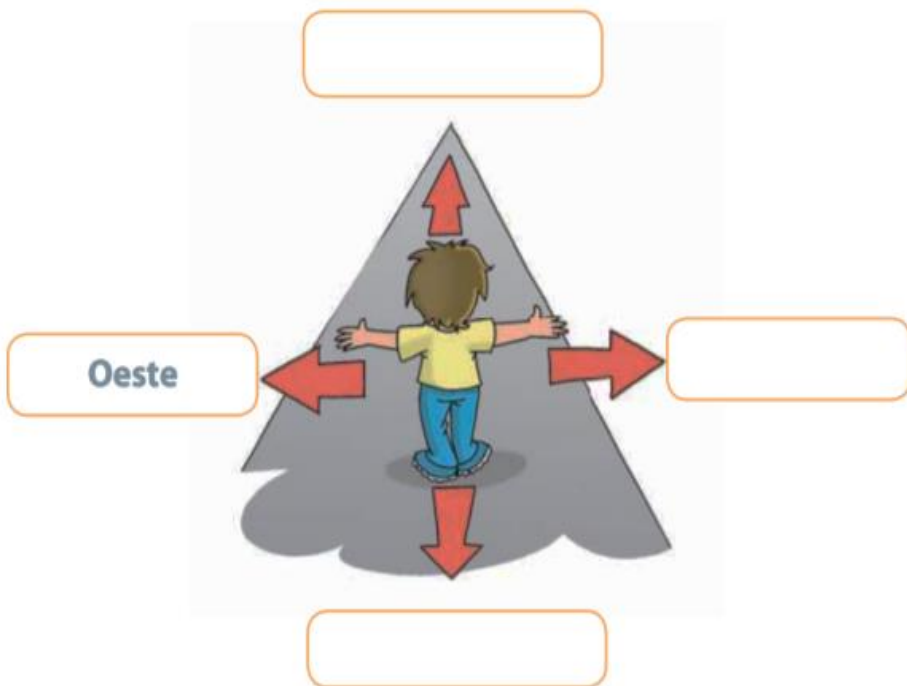
Para ubicarnos de forma más exacta, tanto en planos como en nuestro entorno, utilizamos los **puntos cardinales**, que son cuatro: **norte** (N), **sur** (S), **este** (E) y **oeste** (O). Los puntos cardinales son direcciones relacionadas con la posición en que vemos el sol durante el día. El lugar por donde sale el **sol** es el **este** y el punto contrario, es decir, por donde “**se pone el sol**”, es el **oeste**.

Para representar los puntos cardinales se utiliza la **rosa de los vientos**, que señala hacia dónde está cada punto cardinal.

**La rosa de los vientos** aparece siempre en **planos y mapas**.



Observa la imagen y completa con sus nombres





## ¿Dónde se ubica Chile?

### Continentes y océanos en el planisferio.

Antes de ubicar a Chile debemos saber que existen **6 continentes** y **5 océanos**. **Los continentes son:** África, América, Asia, Europa, Oceanía, Antártica. **Los océanos son:** Océano Atlántico, Océano Pacífico, Océano Índico, Océano Ártico y Océano Glacial Antártico o Austral. Observa el planisferio y localiza a Chile y píntalo de color rojo, luego responde.




a) ¿En qué continente se encuentra Chile?

---

b) Dibuja y usa los puntos cardinales para completar:

(norte, sur, este, oeste)

- América está al \_\_\_\_\_ de África.
- África está al \_\_\_\_\_ de América.
- Asia está al \_\_\_\_\_ de Europa.

- 1.- Pinta Chile de color rojo.
- 2.- Pinta el resto de América del Sur de color amarillo.
- 3.- Pinta el **mar** de color celeste.
- 4.- Escribe el nombre del océano Pacífico donde corresponde.
- 5.- Dibuja  montañitas donde se ubica la cordillera de los Andes.
- 6.- Dibuja un **círculo verde** en el lugar que se ubica Santiago, la **capital** de Chile.



En este **globo terráqueo**, pinta a Chile del mismo color que lo pintaste en el mapa.



## Ubicación de Chile

Nuestro país se encuentra en América, y dentro de ella en América del sur. Se ubica al Sur- oeste de América del Sur. Chile limita al Norte con Perú, Al Sur con el Polo Sur, al Este con Argentina y Bolivia y al Oeste con el Océano Pacífico.

- 1.- Remarca Chile rojo y de diferentes colores los países con los que limita y dibuja montañitas en la Cordillera de los Andes



## La cordillera de los Andes

El relieve es la forma que tiene la superficie de la Tierra en relación con sus alturas, por ejemplo, si es un terreno plano o con alturas como cerros o montañas.

El elemento más característico del relieve chileno es la cordillera de los Andes. Es una cadena de montañas que recorre el país de norte a sur en el lado este y que marca el límite con Argentina.

Es la segunda cordillera más alta del mundo.